

Nom de l'élève : _____

Nom du professeur : _____


Troisième degré 2016A

1. Complète la série de tierces suivantes dans l'ordre ascendant :

..... Do Si Fa

2. Complète la série suivante en respectant l'ordre des bémols. Mi Sol

3. Écris le nom des notes :



4. Pour chacune des notes ci-dessous, écris la note qui forme l'intervalle demandé.



Seconde ascendante

Tierce descendante

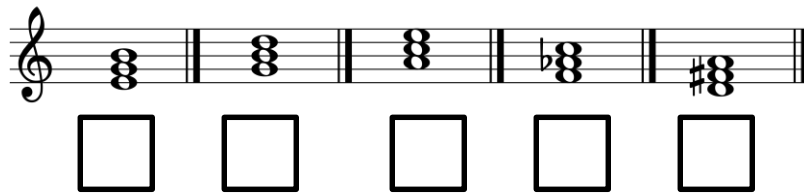
5. Encerle les deux termes de mouvements les plus lents.

Allegretto Lento Allegro Adagio

6. Voici le deuxième tétracorde d'une gamme majeure. Complète cette gamme.



7. Les accords suivants sont-ils majeurs (M) ou mineurs (m)?



8. Qui suis-je? a) Nom que porte le troisième degré d'une gamme

b) La sensible de la gamme de La mineur

9. Complète la mesure suivante à l'aide de triolets de croches.



10. Complète chaque phrase :

a) La gamme relative de Do Majeur est la gamme de

b) La d'une gamme mineure est toujours une note altérée.

Nom de l'élève : _____

Nom du professeur : _____

Réponses – Dictées 3^e degré – 2016

Dictée rythmique 1

Dictée rythmique 2

Dictée mélodique

Dictée harmonique

Série 1

Série 2

Série 3

Série 4

Série 5


Nom de l'élève : _____

Nom du professeur : _____


Quatrième degré – 2016A

1. Quelle note est la sensible de : a) la mineur _____ b) ré mineur _____

2. Ajoute les chiffres indicateurs de mesure.



3. Écris la note qui forme l'intervalle demandé.




a) 5^{te} juste ascendante b) 4^{te} juste descendante

4. Quel nom porte le cinquième degré de la gamme? _____


5. a) La mesure à _____ est une mesure simple à deux temps.

b) La mesure à _____ est une mesure composée à deux temps.

6. Écris la gamme relative mineure de Si bémol majeur.



7. Dessine à côté du silence la note qui a la même durée.



8. Qui suis-je? a) l'unité de temps dans la mesure à 2/2 : _____

b) le temps fort de la mesure à 3 temps : _____

9. Place dans l'ordre du plus rapide au plus lent : Largo, Presto, Larghetto, Prestissimo.

1. _____ 2. _____ 3. _____ 4. _____

10. Complète les phrases suivantes :

a) Le point d'augmentation prolonge la figure de note de la _____ de sa valeur.

b) Les deux notes qui forment une quinte _____ sont à une distance de 3 tons et $\frac{1}{2}$ ton.

Nom de l'élève : _____

Nom du professeur : _____

Réponses - Dictées 4^e degré - 2016A

Dictée rythmique 1

Dictée rythmique 2

Dictée mélodique

Dictée harmonique


Série 1	Série 2	Série 3
____	____	____


Nom de l'élève : _____

Nom du professeur : _____

Cinquième degré 2016A

1. Complète chaque mesure à l'aide d'une seule figure de note.

a) 

b) 


2. Quel nom porte a) le cinquième degré de la gamme?

b) le septième degré de la gamme?

3. Écris l'armature des gammes mineures correspondant aux toniques suivantes :




4. Dessine la figure de note qui correspond au point placé après les figures suivantes :

a) 

b) 

5. Écris la gamme mineure harmonique relative de Ré majeur.



6. Qui suis-je? a) Une petite note qui se place à un ton ou un demi-ton de la note principale

.....

b) Un petit concerto

7. Vrai ou faux? a) La gamme mineure antique a son 7^e degré élevé.

b) La gamme mineure harmonique comporte un intervalle de seconde augmentée.

.....

8. Nomme les ornements suivants :

a) 

b) 

9. Complète les phrases suivantes :

a) L'unité de temps dans la mesure 6/8 est

b) Une tierce sépare les toniques de deux gammes relatives.

10. Complète chaque mesure à l'aide d'une seule figure de note.

a) 

b) 

Nom de l'élève : _____

Nom du professeur : _____

Réponses – Dictées 5^e degré – 2016A

Dictée rythmique 1

Dictée rythmique 2

Dictée mélodique

Dictée harmonique

Série 1	Série 2	Série 3
____	____	____
____	____	____
____	____	____

Nom de l'élève : _____

Nom du professeur : _____

Sixième degré 2016A

1. Dessine la note qui correspond au deuxième point placé après les figures de notes suivantes.

a)



.....

b)



.....

2. Place les barres de mesure aux bons endroits.



3. Écris l'armature des gammes mineures correspondant aux toniques suivantes :

a)



b)




4. Complète les phrases suivantes :

a) La quarte augmentée est un intervalle composé de tons.

b) Le sert à élever une note déjà dièse.

5. Écris la gamme mineure harmonique qui a trois bémols à la clé.



6. Quelles sont les notes abaissées de la gamme de Do mineur mélodique descendante?

Réponse :

7. Complète les phrases suivantes :

a) La sensible de Fa# mineur est

b) La relative majeure de Do mineur est

8. Construis un accord de septième de dominante sur le degré approprié de la gamme mineure suivante.



9. Qui suis-je?

a) terme italien qui signifie « peu à peu »

b) danse paysanne lente et douce

10. Que signifient les termes italiens suivants :

a) assai b) rubato

c) piu mossi d) non troppo

Nom de l'élève : _____

Nom du professeur : _____

Réponses - Dictées 6^e degré - 2016B

Dictée rythmique

Dictée mélodique

Dictée harmonique

Série 1				Série 2					
—	—	—	—		—	—	—	—	

Nom de l'élève : _____


Nom du professeur : _____

Septième degré 2016A

1. Place les barres de mesure aux endroits appropriés.



2. Écris la gamme de Do dièse mineur mélodique ascendante et descendante.



3. Écris les chiffres indicateurs d'une mesure composée à :

a) 3 temps ?

b) 2 temps ?

4. Quelle est la relative majeure des gammes mineures suivantes :

a) Fa# mineur

b) Ré mineur

c) Fa mineur

d) Sol mineur


.....

.....


.....

.....

5. Écris la gamme mineure mélodique ascendante et descendante qui a quatre dièses à la clé.



6. Identifie les accords suivants : M, m, M⁶, m⁶, M⁶₄ ou m⁶₄



7. Dessine les signes appropriés :

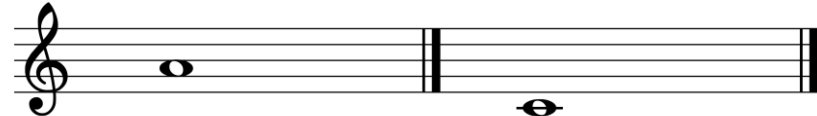
a) lorsque le grupetto est dessiné ainsi, il commence par la note supérieure.

b) lorsque le grupetto est dessiné ainsi, il commence par la note inférieure.

8. De quels intervalles superposés le deuxième renversement d'un accord mineur est-il composé?

Réponse :

9. Pour chacune des notes suivantes, écris l'accord demandé.



M6

m6

10. Qui suis-je?

a) Court morceau construit en contrepoint à 2 ou 3 voix

b) La forme musicale constituée de plusieurs danses est la

Nom de l'élève : _____

Nom du professeur : _____

Réponses - Dictées 7^e degré - 2016A

Dictée rythmique

Dictée mélodique

Dictée harmonique

Série 1

Série 2

Nom de l'élève : _____


Nom du professeur : _____

Huitième degré 2016A

1. Qui suis-je?

- a) L'accord formé de la superposition de deux tierces majeures :
- b) L'armature de la gamme de Sol dièse mineur :

2. Écris la gamme majeure constituée à partir du deuxième tétracorde de la gamme de mi majeur.



3. a) L'accord formé de la superposition de deux tierces majeures est

- b) Donne un exemple de quinte diminuée :


4. À côté de chaque note, écris une note située un demi-ton diatonique plus haut.



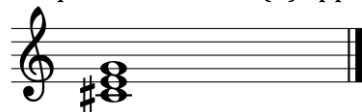
5. Complète la phrase suivante.

L'accord de quinte augmentée se trouve sur le degré d'une gamme

6. Qualifie les quintes suivantes : Juste (J), Diminuée (D), Augmentée (A).



7. À quelles tonalités (3) appartient cet accord? :



Réponse :

8. Nomme

- a) Le terme qui désigne une danse lente sur une basse obstinée :
- b) La sensible de la gamme de Sol# mineur harmonique :

9. Qui suis-je?

- a) J'ai écrit des ballades pour piano :
- b) J'ai porté le choral à son apogée :

10. Forme sur chacune des notes l'accord demandé



Nom de l'élève : _____

Nom du professeur : _____

Réponses - Dictées 8^e degré - 2016A

Dictée rythmique

Dictée mélodique

Dictée harmonique

Série 1

Série 2

Nom de l'élève : _____

Nom du professeur : _____

Neuvième degré 2016A


1. Complète la série suivante à l'aide du cycle des quintes.

..... Ré Si

2. Quelle gamme majeure est formée à partir du tétracorde inférieur de la gamme de :

a) Fa Majeur b) Réb Majeur

3. Écris la gamme mineure mélodique qui a six dièses à la clé (ascendante et descendante).



4. Pour chacune des tonalités suivantes, écris l'accord demandé :

La mineur Ré majeur Ré mineur Fa mineur Mi majeur



5. Les gammes enharmoniques sont les gammes qui comportent les mêmes
mais s'écrivent avec des

6. Quelle est l'armature de la gamme mineure dont la tonique est :

Fa : Ré : Fa# : Sib : Sol# :

7. Quelles sont les notes altérées de la gamme de Mib mineur mélodique ascendante.

.....

8. Qui suis-je?

a) Nom donné au menuet quand il devient vif et brillant :


b) Compositeur qui a écrit les Rhapsodies hongroises :

9. Chiffre les accords suivants :



.....

10. Écris la gamme mineure mélodique ascendante et descendante de Ré dièse.



Nom de l'élève : _____

Nom du professeur : _____

Réponses - dictées - 9e degré

Dictée rythmique

Dictée mélodique

Dictée harmonique 1

Dictée harmonique 2

Dixième degré - 2016A

1. Complète la série suivante à l'aide du cycle des quintes.

Mib Do La

2. Nomme deux gammes mineures enharmoniques du cycle des quintes.

.....

3. a) Quel est l'intervalle simple de la 10^e majeure?

b) Quel est l'intervalle renversé de la 6^{te} mineure?

4. Transforme la gamme mineure suivante en gamme chromatique.



5. Nomme les qualificatifs possibles

a) de la quarte

b) de la seconde

6. En La mineur, identifie les accords suivants en utilisant les chiffres romains.



7. Complète les phrases :

a) La gamme enharmonique de Mi bémol mineur est

b) Les deux notes altérées de la gamme mélodique ascendante de do dièse mineur sont

8. Qui suis-je?

a) Danse nationale polonaise :

b) Enchaînement de deux accords qui marque un repos de la phrase musicale :

.....

9. Chiffrer les accords suivants en Ré majeur :





.....

10. Dans le ton de Si bémol majeur,

a) indique le chiffrage des enchaînements suivants.

b) identifie les cadences.



a) b)


a) b)

Nom de l'élève : _____


Nom du professeur : _____

Réponses - dictées - 10e degréA

Dictée mélodique 1



Dictée mélodique 2




Basses chiffrées

Série 1



Série 2



Nom de l'élève : _____

Nom du professeur : _____

Onzième degré – volet harmonie – 2016A

Réalisez à 4 voix les enchaînements suivants :

La majeur

I V VI IV I

Ré mineur

VI IV I_{6₄} V I

Mi b majeur

I II⁶ I_{6₄} V I

Ré majeur

IV II⁶ I_{6₄} V VI

Sol mineur


I VI II⁶ IV I⁶

Nom de l'élève : _____


Nom du professeur : _____

Réponses - dictée - 11^e degré 2016A

Dictée mélodique 1




Dictée mélodique 2




Basses chiffrées

Série 1



Série 2



Nom de l'élève : _____

Nom du professeur : _____

Onzième degré – volet histoire de la musique - 2016A


1. Nomme deux formes et/ou genres musicaux propres à l'époque baroque :
a) b)
2. Pour chaque époque musicale, écris la date qui marque le début de celle-ci.
Baroque : Classique :
Romantique : XXe siècle :
3. Nomme deux caractéristiques de l'époque romantique :
a) b)
4. Qui suis-je?
a) Le poète du piano
b) Le maître de l'opéra romantique allemand
c) Le créateur de l'opéra français :
d) Compositeur hongrois appelé le père de l'ethnomusicologie
5. Quel compositeur
a) a créé le quatuor à cordes?
b) est le plus classique des romantiques?
6. Complète la phrase suivante :
À l'époque romantique, le et la sont deux formes ou genres musicaux écrits pour orchestre.
7. Qui a composé :
a) L'Art de la fugue? b) Le Sacre du Printemps?
c) L'Oratorio le Messie? d) L'opéra La Traviata?
8. Nomme deux compositeurs pour chacun des courants musicaux suivants :
a) Impressionnisme
b) Atonalité
9. Complète la phrase suivante :
Le est un genre musical issu de la musique négro-américaine et est un compositeur américain qui s'en est inspiré.
10. Complète les phrases suivantes :
a) Vivaldi est surnommé le b) Son pays natal est
c) Le genre musical pour lequel il est devenu le maître est d) L'instrument pour lequel il a surtout composé est le

Nom de l'élève : _____

Nom du professeur : _____


Réponses - dictée -11^e degré 2016A

Dictée mélodique 1



Two sets of blank musical staves, each consisting of five horizontal lines, for dictation 1.


Dictée mélodique 2



Two sets of blank musical staves, each consisting of five horizontal lines, for dictation 2.


Basses chiffrées

Série 1



A single blank musical staff consisting of five horizontal lines for series 1.

Série 2




A single blank musical staff consisting of five horizontal lines for series 2.

Nom de l'élève : _____

Nom du professeur : _____

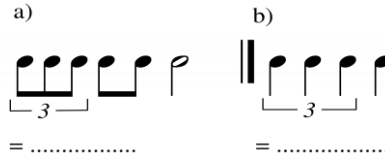
Troisième degré 2016B

1. Écris les notes demandées au-dessus de la portée. Utilise les lignes supplémentaires nécessaires.



ré la do mi si

2. Combien de noires vaut chacun des exemples suivants :




3. a) Deux gammes relatives possèdent la même

b) La d'une gamme mineure harmonique est toujours une note altérée.

4. Dans les exemples suivants, encercle les tierces mineures :



5. Pour chacune des armatures ci-dessous, écris la tonique de la gamme majeure correspondante.



6. Voici le deuxième tétracorde d'une gamme majeure. Complète cette gamme.



7. Sur chacune des notes ci-dessous, forme un accord parfait mineur.



8. Qui suis-je?

a) Le premier dièse de l'ordre des dièses

b) Le deuxième bémol de l'ordre des bémols

9. Combien de noires vaut chacun des exemples suivants.



.....



.....

10. Complète chaque phrase :

a) Une est un morceau construit autour de difficultés techniques particulières.

b) Le mot indique qu'il faut jouer un peu plus lent qu'*Allegro*.

Nom de l'élève : _____

Nom du professeur : _____

Réponses – Dictées 3^e degré – 2016B

Dictée rythmique 1

Dictée rythmique 2

Dictée mélodique

Dictée harmonique

Série 1

Série 2

Série 3

Série 4

Série 5


____ | ____ | ____ | ____ | ____

Nom de l'élève : _____

Nom du professeur : _____


Réponses – Dictées 4^e degré – 2016B

Dictée rythmique 1




A musical staff consisting of five horizontal lines.

Dictée rythmique 2




A musical staff consisting of five horizontal lines.

Dictée mélodique



A musical staff consisting of five horizontal lines.



A musical staff consisting of five horizontal lines.

Dictée harmonique

Série 1 Série 2 Série 3

_____ | _____ | _____

Nom de l'élève : _____

Nom du professeur : _____


Cinquième degré 2016B

1. Place les barres de mesure aux endroits appropriés.



2. Dessine la figure de note qui correspond au point placé après les notes suivantes.

a) 

b) 

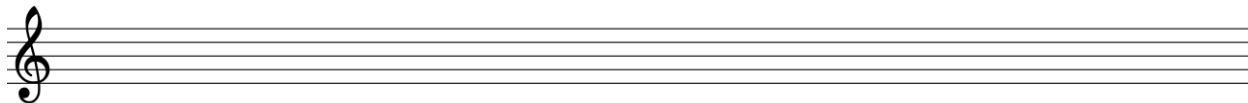
3. Écris l'armature des gammes mineures correspondant aux toniques suivantes :



4. De quel degré de la gamme s'agit-il?

a) sus-tonique b) sus-dominante

5. Écris la gamme mineure harmonique relative de Ré majeur.



6. Qui suis-je? a) Une petite note qui se place à un ton ou un demi-ton de la note principale

.....

b) Un petit concerto

7. Vrai ou faux? a) La gamme mineure antique a son 7^e degré élevé.

b) La gamme mineure harmonique comporte un intervalle de seconde augmentée.


.....

8. Complète les phrases suivantes :

a) L'unité de temps dans la mesure à 6/8 est

b) Une tierce sépare les toniques de deux gammes relatives.

9. Écris la gamme de *Mi* mineur mélodique ascendante et descendante



10. Ajoute les chiffres indicateurs aux mesures suivantes :



Nom de l'élève : _____

Nom du professeur : _____

Réponses – Dictées 5^e degré – 2016B

Dictée rythmique 1

Dictée rythmique 2

Dictée mélodique

Dictée harmonique

Série 1

Série 2



Série 3

Nom de l'élève : _____


Nom du professeur : _____

Sixième degré 2016B



1. Remplace les triolets suivants par :

a) une seule figure de silence.  = b) une seule figure de note.  =

2. Écris la gamme majeure qui a trois dièses à la clé.




3. Dessine la figure de note qui correspond au deuxième point placé après la figure de notes suivantes :

a)  : b)  :

4. Quel signe utilise-t-on pour

- a) effacer une double altération?
- b) obtenir un battement rapide d'une note avec sa note supérieure?

5. Écris la gamme majeure relative de Fa# mineur





6. Au-dessus des notes suivantes, écris l'intervalle demandé.

a)  4te augmentée
 b)  5te diminuée

7. Sur chacune des notes suivantes, forme un accord mineur :



8. Transforme les accords mineurs suivants en accords majeurs.

a)  b) 

9. Qui suis-je? a) termes italiens (4 mots) pour augmenter le son peu à peu

b) danse paysanne lente et douce

10. À quelle tonalité mineure appartient chacun des accords V7 suivants?

a) 
 b) 

Nom de l'élève : _____

Nom du professeur : _____

Réponses – Dictées 6^e degré – 2016B

Dictée rythmique

Dictée mélodique

Dictée harmonique

Série 1				Série 2			
_____	_____	_____	_____	_____	_____	_____	_____

Nom de l'élève : _____

Nom du professeur : _____


Septième degré 2016B

1. Complète les mesures suivantes à l'aide d'une seule figure de note.

a) 

b) 

2. Écris la gamme construite à partir du deuxième tétracorde de la gamme de La majeure.



3. Dessine la figure de note qui vaut un temps dans la mesure

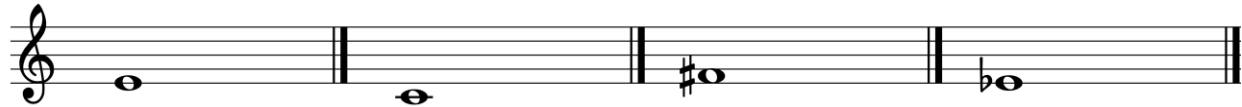
a) 

b) 


4. Les sixtes suivantes sont-elles majeures ou mineures?

a) 
 b) 

5. Écris la note qui formera une sixte majeure au-dessus de chaque note.



6. Sur chacune des notes suivantes, écris l'accord demandé



7. Vrai ou faux? a) Dans la mesure à 6/4, la noire est l'unité de temps.

b) Dans le contretemps, le temps faible se prolonge sur le temps fort suivant.

8. Comment se nomme :

a) la danse animée qui termine habituellement une suite ?

b) la danse utilisée comme première pièce d'une suite?

9. Écris l'exécution de cet ornement à droite de la note dans la portée :



10. Qui suis-je?

a) Court morceau construit en contrepoint à 2 ou 3 voix

b) La forme musicale constituée de plusieurs danses est la

Nom de l'élève : _____

Nom du professeur : _____

Réponses - Dictées 7^e degré - 2016B

Dictée rythmique

Dictée mélodique

Dictée harmonique

Série 1

Série 2

Nom de l'élève : _____


Nom du professeur : _____

Huitième degré 2016B

1. Quelle est la gamme relative majeure des gammes mineures suivantes :

- a) Sol# mineur b) Ré mineur c) Sib mineur d) Fa# mineur e) Mi mineur


2. Écris la gamme mineure harmonique qui a cinq bémols à la clé.



3. a) L'accord formé de la superposition de deux tierces majeures est

b) La sensible de la gamme de Sol# mineur harmonique est

4. À côté de chaque note, écris une note située un demi-ton diatonique plus haut.



5. Complète la phrase suivante : Par rapport à la fondamentale, l'accord de quinte diminuée est formé d'une tierce et d'une quinte

6. Écris les quintes demandées au-dessus de la note.



7. À quelles tonalités (3), appartient cet accord?



Réponse :

8. Nomme

a) Le terme qui désigne une danse lente sur une basse obstinée :

b) La sensible de la gamme de Sol# mineur harmonique :


9. Qui suis-je?

a) J'ai écrit des ballades pour piano :

b) J'ai porté le choral à son apogée :

10. Identifie les accords suivants :

+ ; +6 ; +6₄ ; ° ; °6 ; °6₄



.....

Nom de l'élève : _____

Nom du professeur : _____

Réponses - Dictées 8^e degré - 2016B

Dictée rythmique

Dictée mélodique

Dictée harmonique

Série 1

Série 2

Nom de l'élève : _____

Nom du professeur : _____

Neuvième degré 2016B

1. Quelle est la gamme enharmonique de


a) Solb Majeur :

b) Ré# mineur :

2. Le premier renversement d'un accord de septième de dominante se compose d'un

..... auquel on superpose une

3. Écris la gamme mineure antique de Mi bémol.



4. Écris la tonique des gammes majeures correspondant aux armatures suivantes :



5. L'intervalle qui contient 5 tons et un demi-ton diatonique est la

6. Qualifie les septièmes suivantes : (M ou m)



.....

7. Nomme deux compositeurs qui nous ont laissé des Nocturnes :

.....

8. Qui suis-je?

a) danse qui se présente sous forme de variations :

b) le compositeur qui a intégré le scherzo dans les grandes formes :

9. À quelle tonalité majeure appartient chacun des accords suivants.




.....



.....

10. Écris la gamme majeure construite à partir du tétracorde inférieur de Si bémol majeur.



Nom de l'élève : _____

Nom du professeur : _____

Réponses – dictées - 9e degré

Dictée rythmique

Dictée mélodique

Dictée harmonique 1

Dictée harmonique 2

Nom de l'élève : _____

Nom du professeur : _____

Dixième degré 2016B

1. Complète la phrase suivante :

La gamme constituée à partir du tétracorde inférieur de la gamme de Sol \flat majeur est la gamme de Cette gamme a pour armature

2. Nomme les cinq tons voisins de Ré bémol majeur.

.....

3. Nomme les quatre intervalles qui peuvent être qualifiés de majeurs :

.....

.....

4. Transforme la gamme majeure suivante en gamme chromatique



5. Nomme l'intervalle

a) simple de la 10^e majeure

b) renversé de la 7^e majeure

6. En Sol mineur, écris les accords demandés.



I

VI

V₆₅

II^o

VII^o

7. Complète les phrases :

a) La gamme enharmonique de Mi bémol mineur est

b) Les deux notes altérées de la gamme mélodique ascendante de do dièse mineur sont

.....

8. Qui suis-je?

a) Passage d'une tonalité à une autre au cours d'une pièce :

b) Danse nationale polonaise :

9. Écris les accords demandés en Mi Majeur



I₆

vi

V₆

ii₆

IV

4

5

10. Nomme trois types de cadences et chiffre-les :

a)

b)


c)

Nom de l'élève : _____


Nom du professeur : _____

Réponses – dictées - 10e degré

Dictée mélodique 1




Dictée mélodique 2




Basses chiffrées

Série 1



Série 2




Nom de l'élève : _____

Nom du professeur : _____

Onzième degré – volet harmonie – 2016B


Réalisez à 4 voix les enchaînements suivants :

Ré majeur




I IV II⁶ IV I⁶

Fa # mineur




I V VI IV I

Ré mineur




II⁶ I⁶ IV V I

Mib majeur



IV I⁶₄ II⁶ V VI

Mib majeur



I VI IV I⁶₄ V

Nom de l'élève : _____

Nom du professeur : _____

Réponses - dictée - 11^e degré 2016B

Dictée mélodique 1

Dictée mélodique 2

Basses chiffrées

Série 1

Série 2

Nom de l'élève : _____

Nom du professeur : _____

Onzième degré – volet histoire de la musique - 2016B

1. Nomme deux titres d'œuvres à caractère religieux composées par Jean-Sébastien Bach :

a) b)

2. À quelle époque correspondent les caractéristiques suivantes :

a) Disparition de la tonalité :

b) L'ornementation à outrance:

c) Développement de la virtuosité :

d) Apparition des premiers orchestres importants :

3. Nomme deux caractéristiques de l'époque romantique :

a) b)

4. Qui suis-je?

a) Le maître de la musique baroque :

b) Le maître du concerto :

c) Le créateur de l'opéra français :

d) L'auteur de l'Oratorio de Noël :

5. À quelle époque a vécu? a) Ravel b) Monteverdi

c) Chopin d) Gershwin e) Mozart

6. Nomme quatre compositeurs du XXe siècle :

a) b)

c) d)

7. Qui a composé :

a) La Flûte Enchantée?

b) Tristan et Isolde?

.....

.....

c) La Messe en si mineur?

d) Les Quatre Saisons?

e) La Mer?

.....

.....

.....

8. Nomme le titre de deux œuvres pour piano de Debussy :

a) b)

9. Quel compositeur classique nous a laissé :

a) 32 sonates pour piano

b) 12 symphonies londoniennes

10. Nomme :

a) Trois compositeurs qui ont écrit des sonates

.....

b) L'équivalent de la sonate dans la musique pour orchestre

Nom de l'élève : _____

Nom du professeur : _____

Réponses - dictée - 11^e degré 2016B

Dictée mélodique 1

Dictée mélodique 2

Basses chiffrées

Série 1

Série 2

Nom de l'élève : _____

Nom du professeur : _____

Réponses – Dictées 1^{er} degré – 2017A


Dictée rythmique 1




Dictée rythmique 2



Dictée mélodique 1



Dictée mélodique 2




Nom de l'élève : _____


Nom du professeur : _____

Réponses – Dictées 2^e degré – 2017A


Dictée rythmique 1




Dictée rythmique 2



Dictée mélodique 1



Dictée mélodique 2




Nom de l'élève : _____

Nom du professeur : _____

Troisième degré – 2017A

1. Écris, au-dessus de la portée, le nom des notes suivantes :



2. Écris les notes demandées au-dessus de la portée en utilisant les lignes supplémentaires nécessaires.



Si Ré Do La Mi

3. Complète cette série de tierces dans l'ordre ascendant. La ___ Sol ___ Ré ___

4. Les tierces suivantes sont-elles majeures (M) ou mineures (m)?



5. Complète l'ordre des dièses. ___ Do ___ Si

6. Écris l'armature des gammes majeures suivantes :



Sol

Fa

Do

Ré

Si bémol

7. Sur la note Sol, forme :



a) Un accord majeur




b) un accord mineur

8. Complète la mesure à l'aide de triolets de croches.



9. Écris la gamme de La mineur harmonique et encercle la médiate.



10. Qui suis-je? a) Danse à 3 temps, d'origine allemande _____

b) Terme qui signifie jouer rapidement _____

Nom de l'élève : _____

Nom du professeur : _____

Réponses – Dictées 3^e degré – 2017A

Dictée rythmique 1



Dictée rythmique 2



Dictée mélodique



Dictée harmonique. (Écris si l'accord que tu entends est majeur ou mineur (M/m).)

Série 1

Série 2

Série 3

Série 4

Série 5




Nom de l'élève : _____

Nom du professeur : _____

Quatrième degré – 2017A

1. Nomme le silence qui remplace : a) la double croche? _____
b) la blanche? _____

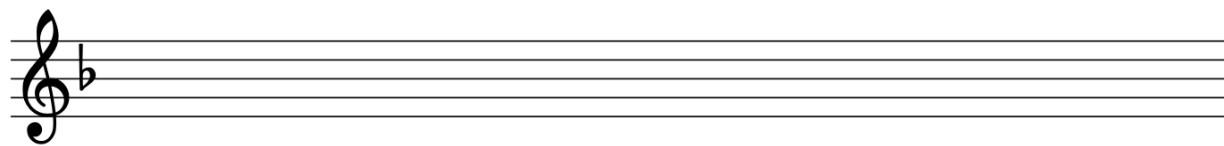
2. Complète chaque mesure par un silence.



3. Quel intervalle sépare la tonique d'une gamme mineure de la tonique de sa relative majeure?

Réponse : _____

4. Écris la gamme mineure harmonique qui correspond à l'armature suivante. Encerle la dominante.



5. Écris l'armature des gammes suivantes :



Ré majeur

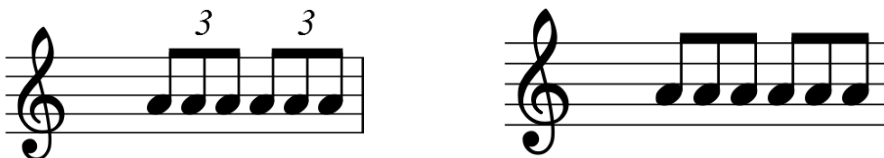
Sol majeur

Ré mineur

Si bémol majeur

La mineur

6. Ajoute les chiffres indicateurs de mesure.



7. Écris le terme a) Jouer aussi rapidement que possible. _____

qui signifie : b) Attaquer fortement la note et revenir doux immédiatement. _____

8. Écris la note qui forme l'intervalle demandé.



4^{te} juste ascendante

5^{te} juste descendante

9. a) Quelle est l'unité de temps dans une mesure : à 3/4 _____ à 6/8 _____

b) Quelle est l'unité de mesure dans une mesure : à 3/4 _____ à 6/8 _____

10. Qui suis-je?

a) la dominante de Ré majeur? _____

b) sensible de la gamme de si mineur harmonique? _____

c) un mouvement vif et rapide? _____

d) une danse suivie d'un trio? _____

Nom de l'élève : _____

Nom du professeur : _____

Réponses – Dictées 4^e degré – 2017A



Dictée rythmique 1



Dictée rythmique 2



Dictée mélodique




Dictée harmonique. (Écris si l'accord que tu entends est majeur ou mineur (M/m).)

Série 1

Série 2

Série 3



Nom de l'élève : _____


Nom du professeur : _____

Cinquième degré – 2017A

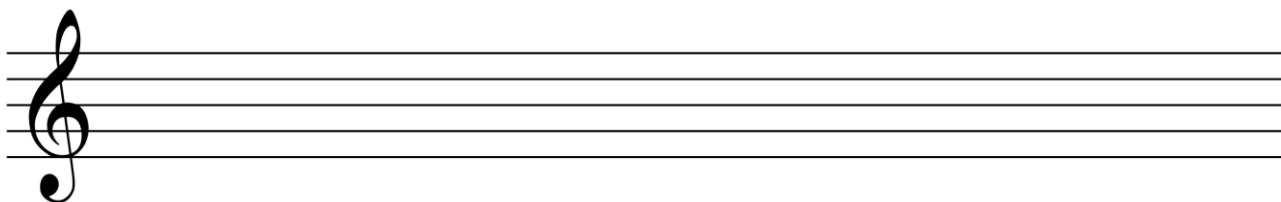
1. Quelle note est :

- a) la dominante de Sib Majeur? _____ c) la médiate de Sol mineur? _____
b) la sous-dominante de Ré Majeur? _____ d) la sus-dominante de La mineur harmonique? _____

2. Écris l'armature des gammes mineures correspondant aux toniques suivantes :



3. Écris la gamme de Sol mineur antique ascendante.



4. Quelle forme de la gamme mineure est différente en montant et en descendant?

5. Écris le nom des notes altérées dans les gammes mineures mélodiques ascendantes suivantes :

- a) ré mineur _____ b) si mineur _____

6. Place les barres de mesure aux endroits appropriés.



7. Quel terme indique qu'il faut : a) Jouer en accélérant le mouvement? _____
b) Reprendre la vitesse initiale de la pièce? _____

8. Qui suis-je? a) Composition pour orchestre en 3 ou 4 mouvements? _____
b) Je suis plus facile et moins longue que la sonate? _____

9. Ajoute à la note l'ornement demandé.



- a) mordant inférieur b) appoggiature brève

10. Vrai ou Faux? a) La gamme mineure harmonique ne compte pas de sensible? _____
b) La gamme mineure antique comporte une note altérée accidentellement? _____

Nom de l'élève : _____

Nom du professeur : _____

Réponses – Dictées 5^e degré – 2017A


Dictée rythmique 1



Dictée rythmique 2



Dictée mélodique



Dictée harmonique. (Écris si l'accord que tu entends est majeur ou mineur (M/m).)

Série 1

Série 2

Série 3

Nom de l'élève : _____

Nom du professeur : _____

Sixième degré –2017A


1. Place les barres de mesures aux endroits appropriés.



2. Décompose les figures suivantes en remplaçant les points par des figures de notes liées.




3. Écris la gamme mineure qui a 2 bémols à la clé (forme harmonique ascendante).




4. Écris la tonique des gammes mineures correspondant aux armatures suivantes.




5. Écris la gamme mineure mélodique de Do, ascendante et descendante.



6. Au-dessus de chacune des notes, écris l'intervalle demandé.



7. À quelle tonalité majeure appartient chacun des accords V7 suivants :

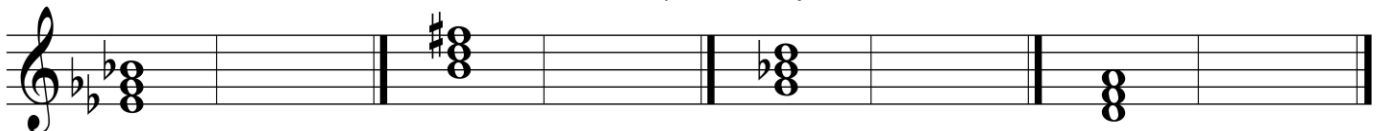


8. Complète cet exemple en ajoutant l'ornement correspondant à l'exécution fournie ci-après.



9. Qui suis-je? a) Terme italien signifiant « peu à peu ». _____
 b) Danse lente et douce à 6/8. _____
 c) Terme italien qui permet de jouer avec liberté. _____

10. Transforme les accords mineurs suivants en accords parfaits majeurs.



Nom de l'élève : _____



Nom du professeur : _____

Réponses – Dictées 6^e degré – 2017A

Dictée rythmique



Dictée mélodique



Dictée harmonique. (Écris si l'accord que tu entends est majeur, mineur ou un accord de V7 (M/m/V7).)

Série 1



Série 2



Nom de l'élève : _____

Nom du professeur : _____

Septième degré –2017A

1. Dessine la figure de note qui vaut un temps dans la mesure. a) 6/4 _____

b) 3/8 _____ c) 3/4 _____ d) 12/8 _____ e) ♯ _____

2. Relie chaque terme à l'exemple approprié. Syncope Contretemps



3. Ajoute l'armature des tonalités suivantes :



Lab Maj.


Fa Maj.

Ré Maj.


Mi Maj.

Mib Maj.

4. Écris la gamme majeure qui a 3 dièses à l'armature.

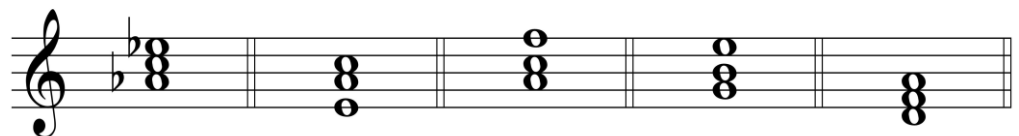


5. Indique si les sixtes suivantes sont Majeures (M) ou mineures (m).



6. Écris un exemple de demi-ton : a) chromatique : _____ b) diatonique : _____

7. Identifie les accords suivants : M, m, M⁶, m⁶, M⁶₄ ou m⁶₄



8. Encerle la fondamentale de l'accord.



9. Écris l'ornement qui s'exécute ainsi :



exécution

réponse

10. Nomme 4 principales danses d'une suite.

1) _____ 2) _____
3) _____ 4) _____

Nom de l'élève : _____

Nom du professeur : _____

Réponses – Dictées 7^e degré – 2017A

Dictée rythmique

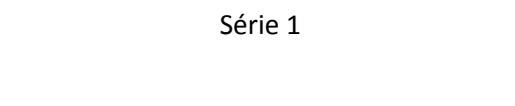


Dictée mélodique

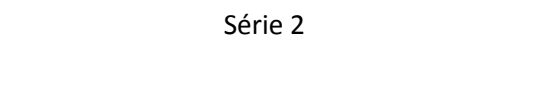


Dictée harmonique. (Écris si l'accord que tu entends est un accord majeur, mineur, en position fondamentale ou renversée, ou une septième de dominante (M/m/M6/m6/V7)).

Série 1



Série 2



Nom de l'élève : _____

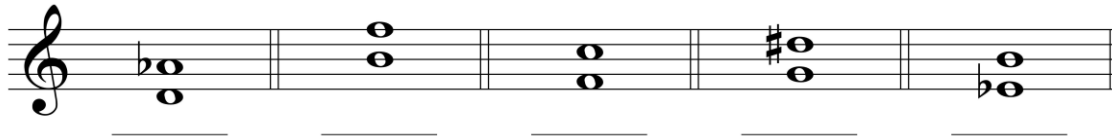
Nom du professeur : _____

Huitième degré – 2017A

1. Quel terme désigne :
- a) une composition mélodique pour voix solo avec accompagnement? _____
- b) une pièce de Brahms ou de Chopin, caractérisée par le retour d'un refrain? _____

2. Qui suis-je?
- a) Je sers à construire une chaconne. _____
- b) Cantique allemand protestant. _____

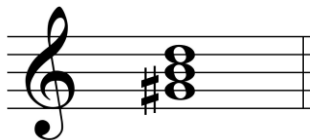
3. Qualifie les quintes suivantes : Juste (J), Diminuée (D) ou Augmentée (A).



4. L'accord de quinte augmentée à l'état fondamental est constitué de la superposition de deux _____. Cet accord se retrouve sur le _____ degré d'une gamme _____.


5. Quelle est la tonique de la gamme majeure qui a comme armature :
- a) 2 bémols _____
- b) 5 dièses _____ c) 4 bémols _____ d) 3 dièses _____ e) 5 bémols _____

6. À quelles tonalités (3) appartient cet accord?



Réponse : _____

7. Identifie les accords suivants : +, °, +6, °6, +₄, °6₄




8. Écris l'armature des gammes mineures suivantes.



9. Qui suis-je?
- a) Les notes altérées de la gamme mélodique ascendante de Sib mineur : _____
- b) La sensible de la gamme de Sol# mineur harmonique: _____

10. Écris :
- a) un accord de quinte augmentée en Si min, 1^{er} renversement.
- b) un accord de quinte diminuée en Sib Majeur, 2^e renversement.



Nom de l'élève : _____

Nom du professeur : _____

Réponses – Dictées 8^e degré – 2017A

Dictée rythmique



Dictée mélodique



Dictée harmonique. (Écris si l'accord que tu entends est un accord majeur, mineur, en position fondamentale ou renversée, ou une septième de dominante (M/m/M6/m6/V7).

Série 1



Série 2

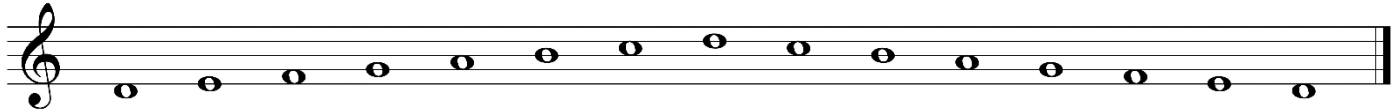


Nom de l'élève : _____

Nom du professeur : _____

Neuvième degré – 2017A

1. Complète cette gamme de ré# mineur mélodique.




2. Nomme 2 gammes enharmoniques du cycle des quintes. 1) _____
2) _____

3. Quelle est l'armature (nombre de dièses ou de bémols) des gammes mineures suivantes.

Do _____ Fa _____ Do dièse _____ Sol _____ Sol dièse _____

4. Écris les septièmes demandées au-dessus de chaque note.




5. Écris la tonique des gammes mineures correspondant aux armatures suivantes.



6. Nomme un compositeur associé à chacune des pièces musicales suivantes.

Scherzo _____ Nocturne _____
Partita _____

7. Sur chacune des notes suivantes, forme un accord de septième de dominante (état fondamental).



8. Écris l'accord de septième de dominante dans chacune des **tonalités** suivantes (état fondamental).

				
Mib Majeur	Fa# mineur	Fa mineur	Lab Majeur	Si mineur

9. Chiffre les accords suivants :



10. Nomme dans l'ordre les toniques des gammes Majeures avec des dièses (1 à 6 dièses).

Réponse : _____

Nom de l'élève : _____

Nom du professeur : _____

Réponses – dictées - 9e degré 2017A

Dictée rythmique

||

Dictée mélodique

Dictées harmoniques. (Écris si l'accord que tu entends est un accord majeur, mineur, en position fondamentale ou renversée, ou une septième de dominante (M/m/M6/m6/M^{6/4}/m^{6/4}, V7).

Dictée harmonique 1

Dictée harmonique 2

Nom de l'élève : _____


Nom du professeur : _____

Dixième degré – 2017A

1. Nomme les gammes Majeures enharmoniques du cycle des quintes.

1) _____ 2) _____ 3) _____

2. Écris la gamme mineure mélodique qui a 7 bémols à l'armature (ascendante et descendante).



3. Qui suis-je? a) Contrepoint imitatif à 2,3 ou 4 voix. _____

b) Danse de cour lente et solennelle. _____

4. Quel est l'intervalle simple de a) la 12^e juste? _____ b) la 18^e augmentée? _____

5. Nomme les quatre intervalles qui peuvent être qualifiés de mineurs.

1) _____ 2) _____ 3) _____ 4) _____

6. Écris les intervalles demandés.




3ce Maj. 6te min. 5te aug. 7eme min. 2de aug.

7. Nomme les 5 tons voisins de Do mineur.

1) _____ 2) _____ 3) _____ 4) _____ 5) _____

8. Écris les accords demandés en Si mineur.




i V⁶₄ iv V⁴₃ VI

9. Identifie les cadences suivantes :

a) enchaînement de l'accord de dominante à l'accord de tonique. _____

b) enchaînement de l'accord de dominante à un accord du 6^e degré. _____

10. Transforme la gamme mineure suivante en gamme chromatique.




Nom de l'élève : _____

Nom du professeur : _____


Réponses – dictées - 10e degré – 2017A

Dictée mélodique 1



Two sets of blank musical staves, each consisting of five horizontal lines, for dictation 1.


Dictée mélodique 2



Two sets of blank musical staves, each consisting of five horizontal lines, for dictation 2.


Basses chiffrées. (Note uniquement la basse en clé de FA ainsi que le chiffre approprié en dessous)

Série 1



A musical staff with five horizontal lines. Below the staff, there are four short horizontal lines, one under each of the four lines of the staff, intended for numerical notation.

Série 2



A musical staff with five horizontal lines. Below the staff, there are four short horizontal lines, one under each of the four lines of the staff, intended for numerical notation.


Nom de l'élève : _____

Nom du professeur : _____

Onzième degré — volet harmonie — 2017 A


Réalisez à 4 voix les enchaînements suivants :

La mineur




i VI iv V i⁶

Ré Majeur




I IV II⁶ V I⁶

Do mineur




I iv ii^{o6} I⁶₄ V

Sib Majeur



IV I⁶₄ II⁶ V VI

Sol mineur




I VI IV I⁶₄ V

Nom de l'élève : _____


Nom du professeur : _____

Réponses – dictées -11^e degré 2017A

Dictée mélodique 1



Dictée mélodique 2




Basses chiffrées. (Note uniquement la basse en clé de FA ainsi que le chiffre approprié en dessous)

Série 1



Série 2



Nom de l'élève : _____

Nom du professeur : _____

Onzième degré – volet histoire de la musique – 2017 A

1. Écris le nom de la période musicale correspondant aux années suivantes :

a) 1820 – 1900 ? _____ b) 1600 – 1750 ? _____

2. Qui suis-je ?

a) Compositeur allemand, considéré comme le maître de la musique baroque. _____

b) D'origine allemande, j'ai composé un oratorio célèbre. _____

c) Je suis un violoniste vénitien et j'ai composé plusieurs concertos. _____

d) Je suis le précurseur du romantisme. _____

3. À quelle époque a vécu :

a) Haydn ? _____ b) Debussy ? _____

c) Schubert ? _____ d) Vivaldi ? _____ e) Brahms ? _____

4. Nomme 2 formes et/ou genres musicaux propres à l'époque classique.

a) _____ b) _____

5. Nomme 4 courants musicaux du XXe siècle.

1) _____ 2) _____

3) _____ 4) _____

6. Qui a composé :

a) Les Quatre-Saisons ? _____

b) Le Sacre du printemps ? _____ c) La Mer ? _____

d) La Symphonie fantastique ? _____ e) La Flûte enchantée ? _____

7. Complète les phrases suivantes :

a) Chopin est surnommé le _____.

b) Son pays natal est la _____. c) La ville où il mourut en 1849 est _____.

d) L'instrument pour lequel il a surtout composé est le _____.

8. Nomme 2 titres d'œuvres pour clavier de Jean-Sébastien Bach.

a) _____ b) _____

9. Nomme les 3 grands compositeurs viennois de l'époque classique. 1) _____

2) _____ 3) _____

10. Quelles sont les 3 parties de la forme sonate ?

1) _____

2) _____


3) _____

Nom de l'élève : _____


Nom du professeur : _____

Réponses – dictées -11^e degré 2017A

Dictée mélodique 1



Dictée mélodique 2




Basses chiffrées. (Note uniquement la basse en clé de FA ainsi que le chiffre approprié en dessous)

Série 1



Série 2



Nom de l'élève : _____


Nom du professeur : _____

Réponses – Dictées 1^{er} degré – 2017B


Dictée rythmique 1




Dictée rythmique 2



Dictée mélodique 1



Dictée mélodique 2



Nom de l'élève : _____

Nom du professeur : _____

Réponses – Dictées 2^e degré – 2017B


Dictée rythmique 1




Dictée rythmique 2



Dictée mélodique 1



Dictée mélodique 2




Nom de l'élève : _____

Nom du professeur : _____

Troisième degré – 2017B

1. Écris, au-dessus de la portée, le nom des notes suivantes.



2. Écrire les notes demandées au-dessus de la portée en utilisant les lignes supplémentaires nécessaires.



Sol Si Ré Mi Fa


3. Complète la série de tierces suivantes dans l'ordre ascendant : _____ Sol _____ Ré _____ Do _____

4. À côté de chacune des notes, écris la note qui forme l'intervalle demandé.

a) Seconde augmentée ascendante



b) Tierce mineure descendante



5. Complète l'ordre des dièses. _____ sol _____ Mi _____

6. Relie par une flèche chaque armature au nom de la gamme qui lui correspond.



Do majeur



Sol majeur

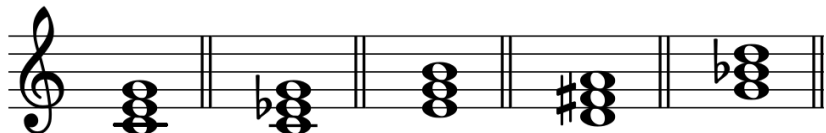
Sib majeur



La mineur



7. Les accords suivants sont-ils majeurs (M) ou mineurs (m)?




8. Place les barres de mesure aux endroits appropriés.



9. a) Écris la gamme de La mineur harmonique.

b) Encerle les notes qui forment un intervalle de seconde augmentée.



10. Parmi les termes suivants : allegretto, adagio, allegro, lequel indique le mouvement :

a) le plus rapide? _____

b) le plus lent? _____

Nom de l'élève : _____

Nom du professeur : _____

Réponses – Dictées 3^e degré – 2017B



Dictée rythmique 1



Dictée rythmique 2



Dictée mélodique



Dictée harmonique. (Écris si l'accord que tu entends est majeur ou mineur (M/m).)

Série 1

Série 2

Série 3

Série 4

Série 5



Nom de l'élève : _____


Nom du professeur : _____

Quatrième degré – 2017B

1. Dessine à côté du silence la note qui a la même durée.

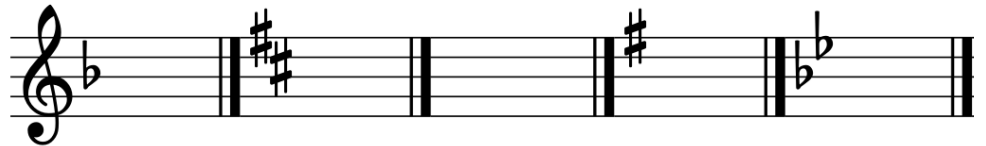


2. Complète par un silence les mesures suivantes :



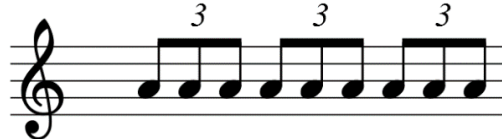
3. Vrai ou Faux? Pour trouver la relative mineure d'une gamme majeure, il faut descendre d'une tierce mineure? Réponse : _____

4. Écris la tonique de la gamme mineure correspondant à chacune des armatures suivantes.



5. Quelle est la sensible de la gamme de : a) ré mineur harmonique? _____
b) si mineur harmonique? _____

6. Ajoute les chiffres indicateurs de mesure.




7. Ajoute le bon signe d'accentuation.
a) Jouer la note avec un accent léger.



b) Jouer la note de façon très accentuée.



8. Écris la note qui forme l'intervalle demandé.



4te juste ascendante

5te juste descendante

9. Dans la mesure à 6/8, quelle figure de note représente :

a) l'unité de temps? _____

b) l'unité de mesure? _____

10. Qui suis-je?

b) Danse française à 3 temps? _____

a) Deux gammes relatives ont la même... _____

d) Jouer aussi vite que possible? _____

c) La dominante de Si bémol majeur? _____

e) Pièce en imitation? _____

Nom de l'élève : _____


Nom du professeur : _____

Réponses – Dictées 4^e degré – 2017B



Dictée rythmique 1



Dictée rythmique 2



Dictée mélodique




Dictée harmonique. (Écris si l'accord que tu entends est majeur ou mineur (M/m).)

Série 1

Série 2

Série 3



Nom de l'élève : _____

Nom du professeur : _____


Cinquième degré – 2017B

1. Qui suis-je? a) La sous-dominante de Fa Majeur? _____
 b) La sensible de Mi mineur? _____ d) La dominante de Ré mineur? _____
 c) Le nom du 6^e degré de la gamme? _____ e) Le nom du 3^e degré de la gamme? _____

2. Dessine la sensible des gammes mineures correspondant aux armatures suivantes :



3. Écris la gamme de Ré mineur antique ascendante.



4. Quelle forme de la gamme mineure est différente en montant et en descendant? _____

5. Écris le nom des notes altérées dans les gammes mineures mélodiques ascendantes suivantes :

- a) ré mineur _____ b) si mineur _____

6. Place les barres de mesures aux endroits appropriés.



7. Encerle la bonne réponse. L'expression « meno mosso » indique qu'il faut jouer :

- a) plus vite ? OU b) moins vite ?

8. Qui suis-je? a) Composition pour orchestre en 3 ou 4 mouvements? _____
 b) Je suis plus facile et moins longue que la sonate? _____

9. Relie par une flèche l'ornement à son exécution.



10. Quelle forme de la gamme mineure comporte : a) Une sous-tonique? _____
 b) Une seconde augmentée? _____

Nom de l'élève : _____

Nom du professeur : _____

Réponses – Dictées 5^e degré – 2017B



Dictée rythmique 1



Dictée rythmique 2



Dictée mélodique



Dictée harmonique. (Écris si l'accord que tu entends est majeur ou mineur (M/m).)

Série 1

Série 2

Série 3

Nom de l'élève : _____

Nom du professeur : _____

Sixième degré –2017B


1. Place les barres de mesures aux endroits appropriés.




2. Décompose les figures suivantes en remplaçant les points par des figures de notes liées.



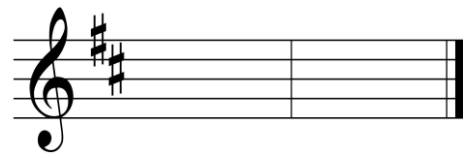
3. Écris la gamme mineure qui a 2 bémols à la clé (forme harmonique ascendante).



4. Écris les toniques des gammes majeures et mineures correspondant aux armatures suivantes.




Majeure mineure



Majeure mineure

5. Écris la gamme mineure mélodique de Do, ascendante et descendante.

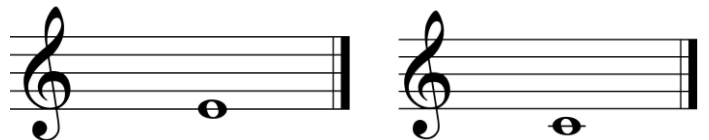


6. Au-dessus de chacune des notes, écris l'intervalle demandé.

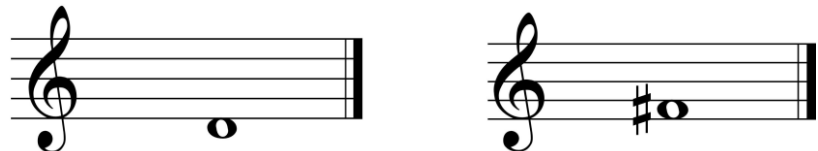


4te juste 4te augmentée 5te juste 5te diminuée

7. Construis un accord de septième de dominante sur les notes suivantes.



8. Sur chacune des notes suivantes, écris un accord parfait mineur.



9. Que signifient les termes italiens suivants :
 a) piu mosso? _____
 b) allegro assai? _____

10. Remplace a) une seule figure de note les exemples suivants par :
 b) une seule figure de silence



Nom de l'élève : _____


Nom du professeur : _____

Réponses – Dictées 6^e degré – 2017B

Dictée rythmique



Dictée mélodique



Dictée harmonique. (Écris si l'accord que tu entends est majeur, mineur ou un accord de V7 (M/m/V7).)

Série 1



Série 2



Nom de l'élève : _____

Nom du professeur : _____

Septième degré –2017B

1. Quelle figure de note vaut l'unité de temps ? a) Mesure à 9/8 : _____ Mesure à 2/2 : _____


Quelle figure de note vaut l'unité de mesure ? b) Mesure à 6/8 : _____ Mesure à 3/4 : _____

Mesure à 3/8 : _____


2. Indique, en utilisant la lettre appropriée, les syncopes (S) ou les contretemps (C).



3. Écris la gamme mineure mélodique relative de Mi Majeur (ascendante et descendante).

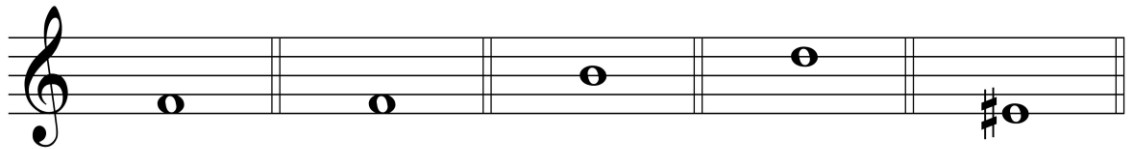


4. Les sixtes suivantes sont-elles Majeures (M) ou mineures (m)?



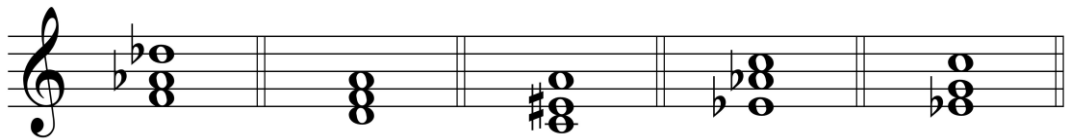
5. Écris un exemple de demi-ton : a) chromatique : _____ b) diatonique : _____

6. Écris les accords demandés.



M⁶ M⁶₄ M⁶ m⁶₄ m

7. Encerle la fondamentale de l'accord.



8. Dessine les signes appropriés.

a) Lorsque le grupetto est dessiné ainsi (_____) il commence par la note inférieure.

b) Lorsque le grupetto est dessiné ainsi (_____) il commence par la note supérieure.

9. Nomme 4 principales 1) _____ 2) _____

danses d'une suite. 3) _____ 4) _____

10. Qui suis-je? a) Superposition de plusieurs lignes mélodiques. _____

b) Danse lente et grave de forme AB. _____

Nom de l'élève : _____



Nom du professeur : _____

Réponses – Dictées 7^e degré – 2017B

Dictée rythmique

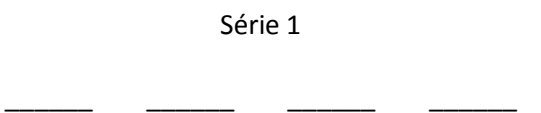


Dictée mélodique

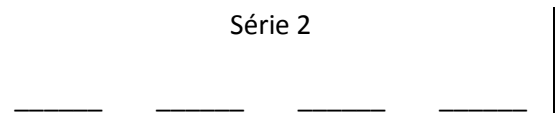


Dictée harmonique. (Écris si l'accord que tu entends est un accord majeur, mineur, en position fondamentale ou renversée, ou une septième de dominante (M/m/M6/m6/V7)).

Série 1



Série 2



Nom de l'élève : _____

Nom du professeur : _____

Huitième degré – 2017B

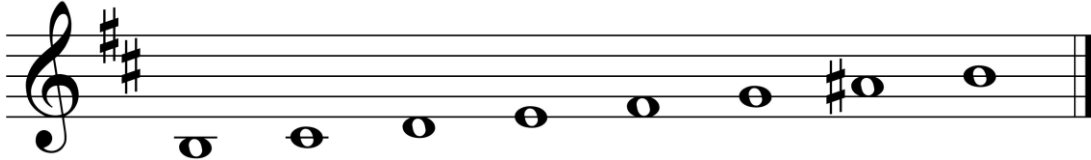
1. Qui suis-je?

a) Cantique allemand qui a connu son apogée à l'orgue. _____

b) Danse française de forme binaire qui commence sur la levée d'une mesure. _____


2. Nomme 2 danses françaises que l'on retrouve dans la suite. 1. _____
2. _____

3. Écris les accords de quinte diminuée sur les degrés appropriés.




4. L'accord de quinte augmentée à l'état fondamental est constitué de la superposition de deux _____. Cet accord se retrouve sur le _____ degré d'une gamme _____.


5. Écris la gamme mineure mélodique relative de Réb Majeur (ascendante et descendante).



6. Ajoute l'armature de cette gamme Majeure. Indique les demi-tons.



7. Écris l'accord demandé.




8. Identifie les accords suivants : +, °, +6, °6, +⁶/₄, °⁶/₄




9. Écris :

a) un accord de quinte augmentée dans le ton de Si min, 1^{er} renversement.

b) un accord de quinte diminuée dans le ton de Sib Majeur, 2^e renversement.



10. Écris 2 accords de quinte diminuée appartenant à chacune des tonalités suivantes :



Ré mineur

Si mineur

Nom de l'élève : _____



Nom du professeur : _____

Réponses – Dictées 8^e degré – 2017B

Dictée rythmique



Dictée mélodique



Dictée harmonique. (Écris si l'accord que tu entends est un accord majeur, mineur, en position fondamentale ou renversée, ou une septième de dominante (M/m/M6/m6/V7).

Série 1



Série 2




Nom de l'élève : _____

Nom du professeur : _____

Neuvième degré – 2017B

1. Écris la gamme mineure mélodique relative de Solb Majeur (ascendante et descendante).

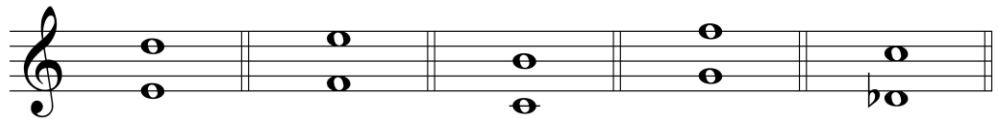


2. Nomme 2 gammes enharmoniques du cycle des quintes. 1) _____
2) _____

3. Quelle est l'armature (nombre de dièses ou de bémols) des gammes mineures suivantes.

Mi _____ Ré _____ Si _____ Sol _____ Sol dièse _____

4. Les septièmes suivantes sont-elles Majeures (M) ou mineures (m)?



5. Écris la tonique des gammes mineures correspondant aux armatures suivantes.

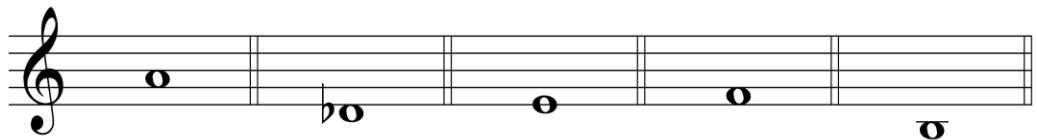


6. Qui suis-je?


a) Danse sur une basse obstinée qui se présente sous forme de variations. _____

b) Pièce romantique à caractère rêveur. _____

7. Sur chacune des notes suivantes, forme un accord de septième de dominante (état fondamental).



8. Écris l'accord de septième de dominante dans chacune des tonalités suivantes (état fondamental).



Mi Majeur

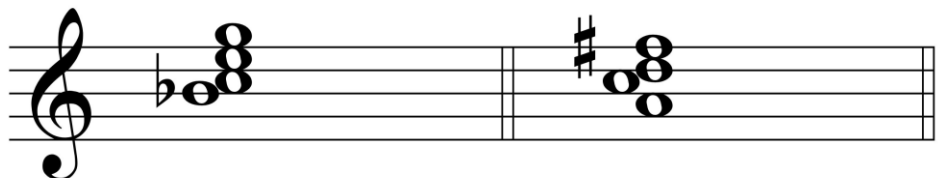
Fa# mineur

Fa Majeur

Lab Majeur

Sib mineur

9. Chiffre les accords suivants :



10. Nomme dans l'ordre les toniques des gammes mineures avec des dièses. (1 à 6 dièses)

Réponse : _____

Nom de l'élève : _____



Nom du professeur : _____

Réponses – dictées - 9e degré 2017B

Dictée rythmique



Dictée mélodique




Dictées harmoniques. (Écris si l'accord que tu entends est un accord majeur, mineur, en position fondamentale ou renversée, ou une septième de dominante (M/m/M6/m6/M^{6/4}/m^{6/4}, V7).

Dictée harmonique 1



Dictée harmonique 2



Nom de l'élève : _____

Nom du professeur : _____

Dixième degré – 2017B

1. Complète la série suivante du cycle des quintes :

Solb _____ Sib _____ Mi _____

2. Quelles sont les notes altérées accidentellement de la gamme de La# mineur mélodique ascendante?

3. Nomme un compositeur qui nous a laissé :

a) des impromptus : _____ b) des préludes et fugues : _____

4. Nomme a) l'intervalle renversé d'une seconde augmentée. _____

b) l'intervalle simple d'une dix-septième mineure. _____

5. Nomme les quatre intervalles qui peuvent être qualifiés de mineurs.

1) _____ 2) _____ 3) _____ 4) _____


6. Écris les intervalles demandés.



3^{ce} Maj. 6^{te} min. 5^{te} aug. 7^{eme} min. 2^{de} aug.

7. Nomme les 5 tons voisins de Mib Majeur. 1) _____ 2) _____
3) _____ 4) _____ 5) _____

8. Écris les accords demandés en Fa Majeur.



I vi V⁶₅ ii vii dim

9. Nomme la cadence caractérisée par chacun des enchaînements d'accords suivants :

a) V-vi : _____ b) IV-I : _____

10. Transforme la gamme mineure suivante en gamme chromatique.




Nom de l'élève : _____


Nom du professeur : _____

Réponses – dictées - 10e degré – 2017B

Dictée mélodique 1




Dictée mélodique 2




Basses chiffrées. (Note uniquement la basse en clé de FA ainsi que le chiffre approprié en dessous)

Série 1



Série 2




Nom de l'élève : _____

Nom du professeur : _____

Onzième degré – volet harmonie – 2017B


Réalisez à 4 voix les enchaînements suivants :

Fa Majeur




I V vi IV I

Do mineur




I iv ii^{o6} i⁶₄ V

Si mineur




i VI iv V i⁶

Mi Majeur



IV ii⁶ i⁶₄ V I

Ré mineur




iv ii^{o6} i⁶₄ V VI

Nom de l'élève : _____

Nom du professeur : _____


Réponses – dictées -11^e degré 2017B

Dictée mélodique 1



Two sets of blank musical staves, each consisting of five horizontal lines, for dictation 1.

Dictée mélodique 2



Two sets of blank musical staves, each consisting of five horizontal lines, for dictation 2.


Basses chiffrées. (Note uniquement la basse en clé de FA ainsi que le chiffre approprié en dessous)

Série 1



A single blank musical staff with five horizontal lines for Série 1.

Série 2



A single blank musical staff with five horizontal lines for Série 2.

Nom de l'élève : _____

Nom du professeur : _____

Onzième degré – volet histoire de la musique – 2017B

1. Écris le nom de l'époque au-dessus des dates correspondantes.

1670

1763

1821

1912

2. Nomme 2 compositeurs de l'époque impressionniste.

1) _____

2) _____

3. Place les compositeurs suivants dans leur époque respective :

Beethoven, Gershwin, Lully, Haydn, Ravel, Schumann, Bartok, Mozart, Wagner, Chopin

Baroque : _____

Classique : _____

Romantique : _____

XX^e siècle : _____

4. Complète la phrase suivante : À l'époque romantique, _____ est le maître de l'opéra italien et _____ est le maître de l'opéra allemand.

5. Nomme 4 courants musicaux du XX^e siècle.

1) _____ 2) _____

3) _____ 4) _____

6. Qui suis-je? a) Forme qui comporte un sujet et un contre-sujet. _____

b) Composition vocale sur un poème allemand. _____

c) On peut me comparer à une sonate pour orchestre. _____

d) Genre musical qui s'adresse à un petit cercle d'amateurs. _____

7. a) Qui a-t-on surnommé « le poète du piano »? _____

b) Nomme 3 types de pièces que comporte son œuvre :

8. Qui a composé : a) les Noces de Figaro? _____

b) le Quintette « La truite »? _____

c) la Messe en si mineur? _____

d) Ma mère l'oye? _____

9. En quelle année : a) est mort J.S. Bach? _____ b) est né W.A. Mozart? _____

10. Quelles sont les 3 parties de la forme sonate? 1) _____


2) _____ 3) _____

Nom de l'élève : _____

Nom du professeur : _____


Réponses – dictées -11^e degré 2017B

Dictée mélodique 1



Two sets of blank musical staves, each consisting of five horizontal lines, for dictation 1.


Dictée mélodique 2



Two sets of blank musical staves, each consisting of five horizontal lines, for dictation 2.


Basses chiffrées. (Note uniquement la basse en clé de FA ainsi que le chiffre approprié en dessous)

Série 1



A single blank musical staff with five horizontal lines for Série 1.

Série 2



A single blank musical staff with five horizontal lines for Série 2.

Nom de l'élève : _____


Nom du professeur : _____

Troisième degré – 2018A

1. Écris, au-dessus de la portée, le nom des notes suivantes :



2. Écris les notes demandées au-dessus de la portée en utilisant les lignes supplémentaires nécessaires.



Si Ré Do Fa Mi

3. Écris l'armature des gammes suivantes.




La mineur Sib Majeur Fa majeur Do majeur Ré majeur

4. Trace un autour des tierces majeures et un autour des secondes mineures. N'entoure pas les autres intervalles.

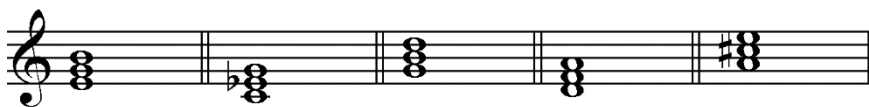


5. Complète l'ordre des bémols. _____ mi _____ _____ _____ _____ fa

6. Écris la gamme de la mineur harmonique. Encerle les notes qui forment un intervalle de seconde augmentée.



7. Écris, sous la portée, si les accords suivants sont en Majeurs M ou mineurs m :



8. Complète chaque mesure par **1 triolet**



9. Complète la série de tierces suivantes dans l'ordre descendant

_____ mi _____ _____ fa _____ _____

10. Qui suis-je? a) Composition fortement accentuée à 2 ou 4 temps _____
b) Un mouvement rapide _____

Nom de l'élève : _____

Nom du professeur : _____

Réponses – Dictées 3^e degré – 2018



Dictée rythmique 1



Dictée rythmique 2



Dictée mélodique



Dictée harmonique

Série 1

Série 2

Série 3

Série 4

Série 5



Nom de l'élève : _____

Nom du professeur : _____

Quatrième degré – 2018A

1. Nomme la figure de note qui remplace :
 a) la pause ? _____
 b) le huitième de soupir? _____


2. Complète chaque mesure en 4/4 par des silences.



3. Quel intervalle sépare la tonique d'une gamme mineure de la tonique de sa relative majeure?

Réponse : _____

4. Écris la gamme mineure harmonique qui a un dièse à la clé. Encerle la dominante.



5. Écris l'armature des gammes suivantes :



Ré majeur

Si mineur

mi mineur

Sib majeur

ré mineur

6. Qui suis-je ?
 a) Un mouvement lent et ample _____
 b) Une danse française à 3 temps, souvent suivie d'un Trio, puis répétée. À l'origine solennelle et gracieuse. _____

7. Écris la note qui forme l'intervalle demandé.

4^{te} juste ascendante

5^{te} juste descendante



8. Quelle figure de note représente l'unité de temps dans une mesure 3/2? _____ 6/8 ? _____

9. Quelle figure de note représente l'unité de mesure dans une mesure 2/4? _____ à 3/2 ? _____

10. Qui suis-je?

a) La dominante de la gamme de sol majeur? _____

b) La sensible de la gamme de ré mineur harmonique? _____

Nom de l'élève : _____

Nom du professeur : _____

Réponses – Dictées 4^e degré – 2018


Dictée rythmique 1



Dictée rythmique 2



Dictée mélodique




Dictée harmonique

Série 1

Série 2

Série 3



Nom de l'élève : _____

Nom du professeur : _____

Cinquième degré – version Mars 2018A

1. Qui suis-je?


a) la sus-tonique de Ré Majeur : _____

c) le nom du 3^e degré de la gamme : _____

b) la sensible de Sol mineur : _____

d) la sus-dominante de Mi mineur harmonique : _____

2. Écris la gamme de Si mineur mélodique (ascendante et descendante).



3. Ajoute les chiffres indicateurs au début de chaque portée.



4. Écris la tonique de la gamme mineure correspondant aux armatures suivantes :



5. Nomme une forme de la gamme mineure qui comporte :

a) Une sous-tonique? _____

b) Une seconde augmentée? _____

6. Encerle la bonne réponse. L'expression « meno mosso » indique qu'il faut jouer :

a) plus vite ? OU b) moins vite ?

7. Qui suis-je?

a) Composition pour orchestre en 3 ou 4 mouvements : _____

b) Je suis plus facile et moins longue que la sonate : _____

8. Encerle la bonne réponse. Quelle est l'exécution de l'ornement suivant ?



9. Quelle forme de la gamme mineure comporte les mêmes notes que sa relative majeure ?

10. Écris le nom des notes altérées dans les gammes mineures mélodiques ascendantes suivantes :

a) mi mineur _____

b) ré mineur _____

Nom de l'élève : _____

Nom du professeur : _____

Réponses – Dictées 5^e degré – 2018

Dictée rythmique 1

Dictée rythmique 2

Dictée mélodique

Dictée harmonique

Série 1

Série 2

Série 3

Nom de l'élève : _____

Nom du professeur : _____

Sixième degré – version Mars 2018A


1. Place les barres de mesures aux endroits appropriés.



2. Remplace les valeurs suivantes par une seule figure de note.



3. Écris la gamme mineure mélodique de Fa dièse, ascendante et descendante.



4. Écris l'armature des gammes mineures correspondant aux toniques suivantes.



5. Combien de tons et de demi-tons comportent :

a) une quarte augmentée? _____ b) une quinte juste? _____

6. Transforme les accords parfaits mineurs suivants en accords parfaits majeurs; utilise les altérations appropriées.



7. À quelles tonalités Majeures appartiennent les accords V7 suivants :



8. Complète la phrase suivante :

L'accord de septième de dominante est formé d'un accord _____ auquel on ajoute une _____.

9. Comment s'appelle le battement rapide d'une note avec sa note supérieure? _____

10. Identifie les formes suivantes :

a) Morceau où un refrain est repris sans cesse après des couplets différents : _____

b) Danse paysanne lente et douce en 6/8 ou 12/8 : _____

Nom de l'élève : _____



Nom du professeur : _____

Réponses – Dictées 6^e degré – 2018

Dictée rythmique



Dictée mélodique



Dictée harmonique



Nom de l'élève : _____

Nom du professeur : _____

Septième degré – version Mars 2018A


1. Complète les mesures en ajoutant les silences appropriés aux endroits indiqués.



2. Ajoute les chiffres indicateurs appropriés aux mesures suivantes.



3. Écris la gamme majeure qui a 4 dièses à l'armature.




4. Qui suis-je?

a) les notes altérées de la gamme mélodique ascendante de Do # mineur : _____

b) la sensible de la gamme de Do# mineur harmonique : _____

5. Les demi-tons suivants sont-ils chromatiques [C] ou diatoniques [D]?



6. Écris les sixtes demandées.

mineure

Majeure

Majeure

mineure



7. De quels intervalles superposés le premier renversement d'un accord mineur est-il composé?

8. Pour chacun des deux accords suivants, écrit les 2 possibilités de renversements.



9. Complète cette définition du gruppetto :

Le gruppetto est un ornement représenté par le signe : _____.

Il comporte _____ ou _____ notes comprenant la note principale et ses degrés _____ inférieurs et supérieurs.

10. Qui suis-je?

a. Pièce précédent parfois l'allemande d'une suite : _____

b. Danse d'origine espagnole faisant partie de la suite: _____

Nom de l'élève : _____



Nom du professeur : _____

Réponses – Dictées 7^e degré – 2018

Dictée rythmique



Dictée mélodique



Dictée harmonique

Série 1



Série 2




Nom de l'élève : _____

Nom du professeur : _____

Huitième degré – version Mars 2018A

1. Écris la gamme mineure mélodique qui a 5 dièses à la clé (ascendante et descendante).



2. Qui suis-je?

a) La relative Majeure de Sib mineur : _____

d) Le 7e degré de la gamme de Sol# mineur antique : _____


3. Au-dessus de chaque note, écris la quinte demandée.



Juste




Diminuée



Augmentée

4. Compléter. Par rapport à la fondamentale, l'accord de quinte augmentée est formé d'une tierce _____ et d'une quinte _____.


5. Écris l'accord de quinte diminuée (à l'état fondamental) que l'on peut former dans chacune des tonalités Majeures suivantes.



Mi Majeur



Sib Majeur



Réb Majeur

6. Identifie les accords suivants (+, +⁶, +⁶₄ ou ^o, ^{o6}, ^{o6}₄).



7. Quel est l'accord formé de 2 tierces mineures superposées? _____.

8. Sur quels degrés d'une gamme trouve-t-on un accord de quinte diminuée :

a) en Majeur? _____

b) en mineur harmonique? _____

9. Le choral instrumental a connu son apogée à l'orgue grâce à ce compositeur.

Réponse : _____

10. Quel terme correspond à chacune des descriptions suivantes :

a. Procédé utilisé pour transformer un thème : _____.

b. Sur une basse obstinée, c'est une danse lente : _____.

c. Danse française qui commence sur la levée d'une mesure : _____.


d. Danse française gaie et légère, de rythme binaire et de mouvement modéré : _____.

Nom de l'élève : _____



Nom du professeur : _____

Réponses – Dictées 8^e degré – 2018

Dictée rythmique



Dictée mélodique



Dictée harmonique

Série 1



Série 2




Nom de l'élève : _____

Nom du professeur : _____

Neuvième degré – version Mars 2018A

1. Écris la gamme Majeure qui a 6 dièses à la clé (ascendante).



2. Quelle gamme Majeure est formée à partir du deuxième tétracorde de :

a) la gamme de La Majeur? _____

b) la gamme de Si Majeur? _____

3. Quelle est la gamme enharmonique de :

a) la gamme de Fa# majeur : _____

b) La gamme de Mib mineur : _____

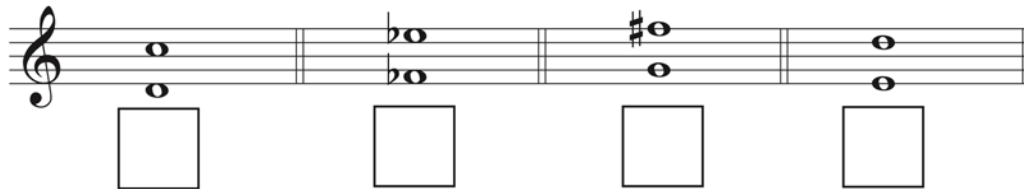
4. Nomme dans l'ordre les toniques des gammes Majeures avec des dièses (1 à 6 dièses).

Réponse : _____

5. Complète la série suivante à l'aide du cycle des quintes.

_____ - _____ - _____ - Mib - _____ - Réb - _____

6. Les septièmes suivantes sont-elles Majeures [M] ou mineures [m]?



7. Le deuxième renversement d'un accord de septième de dominante se compose d'une _____, d'une _____ et d'une _____ superposées.

8. Écris les accords demandés dans les tonalités suivantes :

Réb Majeur

Fa# mineur

Do mineur

Mib mineur



V7

V⁴₃

V2

V⁶₅

9. Par rapport à la fondamentale, l'accord de septième de dominante est constitué d'une tierce _____, d'une quinte _____, et d'une septième _____.

10. Qui suis-je?

a) pièce libre de caractère héroïque ou national : _____.

b) pièce romantique où la mélodie se détache sur un accompagnement en accords brisés : _____.

Nom de l'élève : _____

Nom du professeur : _____

Réponses – dictées - 9e degré 2018

Dictée rythmique

Dictée mélodique

Dictée harmonique 1


Dictée harmonique 2

Nom de l'élève : _____

Nom du professeur : _____

Dixième degré – version Mars 2018A

1. Complète cette gamme de La bémol mineur mélodique.



2. Nomme dans l'ordre les toniques des 7 gammes Majeures avec des bémols.


3. Transforme la gamme Majeure suivante en gamme chromatique.



4. Écris l'intervalle renversé des intervalles suivants et donne le nom et la qualification du nouvel intervalle.



5. Chiffre les accords suivants (Mi Majeur).



6. Quel enchaînement d'accords caractérise :

a) une cadence parfaite? _____

b) une cadence rompue? _____

7. Dans une pièce en La bémol Majeur, quelle note annonce une modulation :

a) au ton situé à la quinte inférieure? _____

b) au ton situé à la quinte supérieure? _____

8. Identifie le genre de pièce dont il s'agit :

a) danse lente et solennelle, d'origine italienne : _____

b) morceau qui suggère l'improvisation : _____

9. Complète :

La gamme _____ ne contient que des demi-tons. Cette gamme contient _____ demi-tons diatoniques et _____ demi-tons chromatiques. Les mêmes noms de notes ne peuvent être utilisés plus de _____ fois de suite dans ce type de gamme.

10. Quelle est la gamme enharmonique de :

a) la gamme de Do bémol Majeur : _____

b) la gamme de Ré dièse mineur : _____

Nom de l'élève : _____

Nom du professeur : _____

Réponses – dictées - 10e degré – 2018

Dictée mélodique 1

Dictée mélodique 2

Basses chiffrées

Série 1

Série 2


Nom de l'élève : _____

Nom du professeur : _____

Onzième degré – volet harmonie– version Mars 2018A


Réalisez à 4 voix les enchaînements suivants :

Fa# mineur




i V VI iv i

Ré Majeur




I IV ii⁶ V I⁶

Ré mineur




ii⁰⁶ i⁶ iv V i

Sib Majeur



IV I⁶₄ ii⁶ V vi

Sol mineur



i iv ii⁰⁶ i⁶₄ V

Nom de l'élève : _____

Nom du professeur : _____

Réponses – dictées -11^e degré 2018A

Dictée mélodique 1

Dictée mélodique 2

Basses chiffrées. (Note uniquement la basse en clé de FA ainsi que le chiffrage approprié en dessous)

Série 1

Série 2

Nom de l'élève : _____

Nom du professeur : _____

Onzième degré – volet histoire de la musique - version Mars 2018A

1. Identifie l'époque dont il est question :

a) naissance de l'opéra : _____

b) abandon de la tonalité : _____

2. Relie les genres musicaux suivants à l'époque qui les caractérise le plus :

Lied •

Fugue •

Sonate •

• Baroque

• Classique

• Romantisme

3. Nomme 2 compositeurs d'opéra de l'époque baroque.

1) _____

2) _____

4. Donne une caractéristique des sonates de :

a) Haydn _____

b) Beethoven _____

5. Qu'appelle-t-on un lied? _____

Quel compositeur a porté le lied à son apogée? _____

6. Nomme 2 compositeurs de chaque époque :

a) baroque _____

b) XX^e siècle _____

7. Qui suis-je?

1) Compositeur de plus de 500 concertos : _____

2) Père de la symphonie : _____

8. Qui sont les compositeurs des œuvres qui suivent :

a) le Messie? _____

b) Symphonie Jupiter? _____

9. Nomme les courants musicaux du vingtième siècle décrits :

a) Genre musical né de la fusion de la musique populaire et du folklore : _____

b) Type de musique qui utilise l'enregistrement comme source de production musicale : _____

10. Complète les phrases suivantes :

Chopin est surnommé le _____. Son pays natal est la _____.


L'instrument pour lequel il a surtout composé est le _____.

Nom de l'élève : _____


Nom du professeur : _____

Réponses – dictées -11^e degré 2018 A

Dictée mélodique 1




Two sets of five-line musical staves for dictation.




Two sets of five-line musical staves for dictation.

Dictée mélodique 2




Two sets of five-line musical staves for dictation.



Two sets of five-line musical staves for dictation.

Basses chiffrées. (Note uniquement la basse en clé de FA ainsi que le chiffre approprié en dessous)

Série 1



Five-line musical staff for numbered basses.

Série 2



Five-line musical staff for numbered basses.




Six horizontal lines for writing numbers below the staff.

Nom de l'élève : _____


Nom du professeur : _____

Troisième degré – 2018B

1. Écris, au-dessus de la portée, le nom des notes suivantes.



2. Écrire les notes demandées au-dessus de la portée en utilisant les lignes supplémentaires nécessaires.



Ré Mi Do Fa Sol

3. Trace un autour des tierces majeures et un autour des secondes mineures. N'entoure pas les autres intervalles.



4. Complète l'ordre des bémols _____ la _____ do _____

5. Quelle est la tonique de la relative mineure de Do majeur ?

6. Écris l'armature des gammes suivantes.




La mineur Sol Majeur Sib Majeur Fa majeur Ré majeur

7. Les accords suivants sont-ils majeurs (M) ou mineurs (m)?



8. Complétez chaque mesure avec **1 seul** triolet.



9. Complète la série de tierces suivantes dans l'ordre descendant

_____ . la _____ . si _____

10. Qui suis-je?

a) Signe qui indique de reprendre depuis le début

b) Le troisième degré de la gamme

Nom de l'élève : _____

Nom du professeur : _____

Réponses – Dictées 3^e degré – 2018


Dictée rythmique 1



Dictée rythmique 2



Dictée mélodique



Dictée harmonique

Série 1

Série 2

Série 3

Série 4

Série 5



Nom de l'élève : _____

Nom du professeur : _____

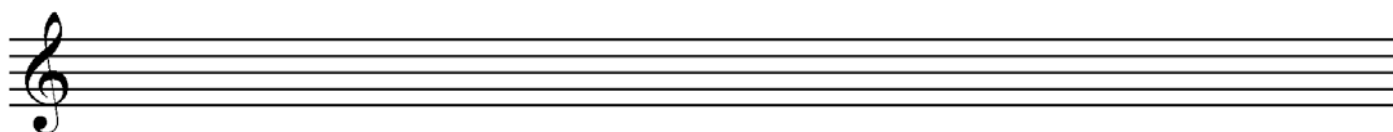
Quatrième degré – 2018B

1. Nomme la figure de note qui remplace :
 a) la demi-pause ? _____
 b) le quart de soupir? _____

2. Complète chaque mesure par une figure de note à l'endroit indiqué par une ligne.



3. Écris la gamme mineure harmonique qui a un bémol à la clé. Encerle la dominante.



4. Écris l'armature des gammes suivantes :



5. Indique, à côté la clé, les chiffres indicateurs pour chaque mesure.



6. Qui suis-je ?
 a) Un mouvement vif et rapide _____
 b) Pièce à deux ou plusieurs voix en imitation dans laquelle on retrouve la même mélodie qui se répète d'une voix à l'autre, mais avec un décalage dans le temps. _____

7. Écris la note qui forme l'intervalle demandé.

4te juste descendante

5te juste ascendante



8. Quelle figure de note représente l'unité de temps dans une mesure : 2/4 _____ 2/8 _____

9. Quelle est l'unité de mesure dans une mesure : 3/4 _____ 6/8 _____

10. Qui suis-je?

- a) Dominante de la gamme de sol majeur? _____ b) Sensible de la gamme de sol mineur harmonique? _____

Nom de l'élève : _____

Nom du professeur : _____

Réponses – Dictées 4^e degré – 2018B

Dictée rythmique 1



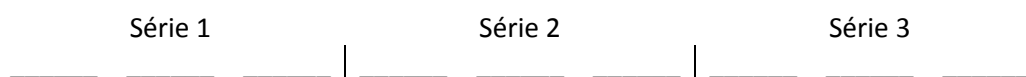
Dictée rythmique 2



Dictée mélodique



Dictée harmonique



Nom de l'élève : _____

Nom du professeur : _____

Cinquième degré – version Mars 2018B

1. Qui suis-je?


a) la dominante de Sib Majeur : _____

c) le nom du 4^e degré de la gamme : _____

b) la sensible de Ré mineur : _____

d) le nom du 2^e degré de la gamme : _____

2. Écris la gamme de Sol mineur harmonique.



3. Place les barres de mesure aux endroits appropriés.



4. Dessine la sensible des gammes correspondant aux armatures suivantes :

a) Gamme Majeure

b) Gamme mineure



5. Relie chaque gamme majeure à sa relative mineure

Ré majeur •

• Sol mineur

Fa majeur •

• Ré mineur

Sol majeur •

• Mi mineur

Si bémol majeur •

• Si mineur

6. Qui suis-je?

a) Un terme de mouvement vif et rapide : _____

b) Composition pour un soliste avec accompagnement d'orchestre : _____

7. Vrai ou Faux?

a) « A Tempo » indique qu'il faut jouer plus vite? _____

b) Une symphonie est une composition pour orchestre? _____

8. Identifie les ornements suivants :



9. Complète les phrases suivantes :

a) La gamme mineure antique ne comporte pas de _____.

b) La gamme mineure mélodique ascendante se termine comme _____.


10. Quelle forme de la gamme mineure est différente en montant et en descendant? _____

Nom de l'élève : _____

Nom du professeur : _____

Réponses – Dictées 5^e degré – 2018

Dictée rythmique 1




A musical staff consisting of five horizontal lines.

Dictée rythmique 2




A musical staff consisting of five horizontal lines.

Dictée mélodique



A musical staff consisting of five horizontal lines.



A musical staff consisting of five horizontal lines.

Dictée harmonique

Série 1	Série 2	Série 3
_____	_____	_____

Nom de l'élève : _____

Nom du professeur : _____

Sixième degré – version Mars 2018B


1. Place les barres de mesures aux endroits appropriés.



2. Complète les exemples suivants pour obtenir la valeur d'une ronde (à l'aide figures de notes ou de silences).



3. Écris la gamme mineure qui a 3 bémols à la clé (forme harmonique ascendante).



4. Quelle est la relative mineure des gammes Majeures suivantes.

La majeur : _____

Sib majeur : _____

Mib majeur : _____

5. Donne un exemple de :

Quinte diminuée



Quarte juste



6. Complète les phrases suivantes :

a) Accord parfait Majeur = tierce _____ et quinte _____.

b) Accord parfait mineur = tierce _____ et quinte _____.

7. Écris l'accord de septième de dominante des tonalités suivantes :

Sib Majeur



Fa# mineur



8. Nomme les trois parties du trille et dessine le signe du trille

1) _____

2) _____

3) _____

Dessin du trille

9. Nomme 2 termes utilisés pour préciser le caractère d'une pièce.

1) _____

2) _____

10. Que signifient les termes italiens suivants :

a) piu mosso? _____

b) allegro assai? _____

Nom de l'élève : _____



Nom du professeur : _____

Réponses – Dictées 6^e degré – 2018

Dictée rythmique



Dictée mélodique



Dictée harmonique

Série 1



Série 2



Nom de l'élève : _____

Nom du professeur : _____

Septième degré – version Mars 2018B

1. a) Place les barres de mesures aux endroits appropriés.

b) Indique par une flèche le début de chaque temps.




2. Dans une mesure à C quelle figure de note représente :

a) l'unité de mesure? _____

b) l'unité de temps? _____

3. Écris la gamme majeure construite à partir du tétracorde inférieur de la gamme de Sib majeur.



4. Qui suis-je?

a) la relative Majeure de la gamme de Do# mineur : _____

b) l'armature de la gamme de Do# mineur : _____

5. Écris les sixtes demandées.

mineure

Majeure

Majeure

mineure



6. Indique si la note à la basse est : la fondamentale [F], la tierce [T] ou la quinte [Q] de l'accord.



7. Écris chacun des accords demandés : a) en positions fondamentale et b) à l'état de premier renversement.



Sib Majeur



Do# mineur



Mi majeur

8. Écris l'exécution de cet ornement.



9. Nomme un terme utilisé pour désigner l'anticipation d'un temps fort sur un temps faible :

10. Qui suis-je?

a) Forme musicale constituée de différentes danses : _____


b) Court morceau en style imitatif : _____

Nom de l'élève : _____



Nom du professeur : _____

Réponses – Dictées 7^e degré – 2018

Dictée rythmique



Dictée mélodique



Dictée harmonique

Série 1



Série 2




Nom de l'élève : _____

Nom du professeur : _____

Huitième degré – version Mars 2018B

1. Écris la gamme construite à partir du 2^e tétracorde de la gamme de Mi bémol Majeur.



2. Quelle est la relative Majeure des gammes mineures suivantes?

Sib mineur : _____

Do mineur : _____


Sol# mineur : _____

Si mineur : _____

3. Un intervalle majeur ou juste auquel on ajoute un demi-ton chromatique devient _____.

4. Compléter. Par rapport à la fondamentale, l'accord de quinte diminuée est formé d'une tierce _____ et d'une quinte _____.

5. Écris l'accord de quinte augmenté (à l'état fondamental) que l'on peut former dans chacune des tonalités mineures suivantes.



Fa mineur



Si mineur






Sol mineur




Do# mineur

7. Écris l'accord demandé.



8. Écris les accords appropriés sur chacun des degrés de la gamme suivante. Indique sous chaque degré la qualité de l'accord (M, m, °, +)



I

II

III

IV

V

VI

VII

9. Qui suis-je?

a. Mélodie faisant partie d'un opéra ou d'un oratorio : _____

b. Forme littéraire et musicale du Moyen âge caractérisée par le retour d'un refrain : _____

10. Choisis parmi les mots suivants les termes correspondant aux descriptions :

[Variation, Choral, Basse obstinée, Chaconne]

Danse lente qui se présente généralement sous la forme de variation continues sur un thème : _____

Modification d'un thème : _____

Sous sa forme instrumentale, a connu son apogée à l'orgue : _____

Sert à construire une chaconne : _____

Nom de l'élève : _____

Nom du professeur : _____

Réponses – Dictées 8^e degré – 2018

Dictée rythmique

Dictée mélodique

Dictée harmonique

Série 1


Série 2

Nom de l'élève : _____

Nom du professeur : _____

Neuvième degré – version Mars 2018B

1. Écris la gamme mineure mélodique ascendante et descendante qui a 6 dièses à l'armature.



2. Nomme les deux notes altérées de la gamme de mi bémol mineur mélodique ascendante.

1) _____ 2) _____

3. Quelle gamme Majeure est formée à partir du tétracorde inférieur de la gamme de :

a) Sib Majeur : _____

b) Mib Majeur: _____

4. Complète la série suivante à l'aide du cycle des quintes.

Do _____ La _____ Fa#

5. Qui suis-je?

a) la relative Majeure de la gamme de Ré# mineur : _____

b) l'armature de la gamme de Mib mineur : _____

6. Combien de tons et de demi-tons contient :

a) la septième Majeure? : _____

b) la septième mineure? : _____

7. Écris l'accord de septième de dominante dans chacune des tonalités suivantes (état fondamental).

Mib Majeur

Fa# mineur

Lab Majeur

Si mineur



8. Le premier renversement d'un accord de septième de dominante est formé d'un accord _____ auquel on superpose une seconde majeure.

9. À quelles tonalités (majeures et mineures) peuvent appartenir les accords suivants :



10. Nomme un compositeur associé à chacun des types de pièces musicales suivantes :

a) Rhapsodie : _____

c) Scherzo : _____

b) Nocturne : _____

d) Partita : _____

Nom de l'élève : _____

Nom du professeur : _____

Réponses – dictées - 9e degré 2018

Dictée rythmique

Dictée mélodique

Dictée harmonique 1


Dictée harmonique 2

Nom de l'élève : _____

Nom du professeur : _____

Dixième degré – version Mars 2018B

1. Écris la gamme mineure antique relative de Do bémol Majeur.



2. Quelle est la gamme enharmonique de :


a) la gamme de Do bémol Majeur : _____ b) la gamme de Ré dièse mineur : _____

3. Transforme la gamme Majeure suivante en gamme chromatique.



4. Définis ce qu'est un intervalle :

5. Chiffre les accords suivants (Do mineur).



6. Quel enchaînement d'accords caractérise :

a) une cadence imparfaite? _____ b) une cadence plagale? _____

7. Dans une pièce en Mi Majeur, quelle note annonce une modulation :

a) au ton situé à la quinte inférieure? _____ b) au ton situé à la quinte supérieure? _____

8. Identifie le genre de pièce dont il s'agit :

a) Une pièce de virtuosité destinée à faire valoir le toucher de l'interprète : _____

b) Un contrepoint imitatif basé sur un court thème ou « sujet » : _____

9. Qu'est-ce qui caractérise un instrument de musique « tempéré » ?

10. Nomme dans l'ordre les toniques des 7 gammes Majeures avec des dièses.

Nom de l'élève : _____

Nom du professeur : _____

Réponses – dictées - 10e degré – 2018B

Dictée mélodique 1

Dictée mélodique 2

Basses chiffrées

Série 1

Série 2


Nom de l'élève : _____

Nom du professeur : _____

Onzième degré – volet harmonie – version Mars 2018B

Réalisez à 4 voix les enchaînements suivants :


La mineur



A grand staff with two staves (treble and bass clefs) for the key of La mineur. The staves are empty, intended for the student to write a four-voice harmonic progression.

i VI iv V i⁶


Ré Majeur



A grand staff with two staves (treble and bass clefs) for the key of Ré Majeur. The staves are empty, intended for the student to write a four-voice harmonic progression.

IV ii^{o6} I⁶₄ V I


Ré mineur



A grand staff with two staves (treble and bass clefs) for the key of Ré mineur. The staves are empty, intended for the student to write a four-voice harmonic progression.

i V VI iv i


Mib Majeur



A grand staff with two staves (treble and bass clefs) for the key of Mib Majeur. The staves are empty, intended for the student to write a four-voice harmonic progression.

IV ii⁶ I⁶₄ V VI

Sol mineur



A grand staff with two staves (treble and bass clefs) for the key of Sol mineur. The staves are empty, intended for the student to write a four-voice harmonic progression.



i VI ii^{o6} i⁶₄ V

Nom de l'élève : _____



Nom du professeur : _____

Réponses – dictées -11^e degré 2018B

Dictée mélodique 1




Dictée mélodique 2



Basses chiffrées. (Note uniquement la basse en clé de FA ainsi que le chiffrage approprié en dessous)

Série 1



Série 2



Nom de l'élève : _____

Nom du professeur : _____

Onzième degré – volet histoire de la musique - version Mars 2018B

1. Identifie l'époque dont il est question :

a) Transition entre le baroque et le romantisme : _____

b) On y privilégie l'expression du sentiment : _____

2. Pour chacun des genres musicaux suivants, indique l'époque qui le caractérise le plus.

a) Sérialisme : _____

c) Trio avec piano: _____

b) Oratorio: _____

3. Nomme 2 caractéristiques de la musique baroque

1) _____

2) _____

4. Qu'appelle-t-on un lied? _____

5. Quel compositeur a porté le lied à son apogée? _____

6. Quel compositeur de l'époque classique nous a laissé :

a) 32 sonates pour piano? _____

b) 12 symphonies londoniennes? _____

7. Qui suis-je?

a) Le maître de l'opéra italien romantique : _____

b) Le père de l'ethnomusicologie : _____

8. Qui sont les compositeurs des œuvres qui suivent :

a) Passion selon St-Jean? _____

b) Concerto pour la main gauche? _____

9. Quelles sont les 3 parties de la forme sonate?

1) _____

2) _____

3) _____

10. Complète les phrases suivantes :

Chopin est surnommé le _____. Son pays natal est la _____.


L'instrument pour lequel il a surtout composé est le _____.

Nom de l'élève : _____


Nom du professeur : _____

Réponses – dictées -11^e degré 2018B

Dictée mélodique 1




Two sets of five-line musical staves for dictation.




Two sets of five-line musical staves for dictation.

Dictée mélodique 2




Two sets of five-line musical staves for dictation.



Two sets of five-line musical staves for dictation.


Basses chiffrées. (Note uniquement la basse en clé de FA ainsi que le chiffre approprié en dessous)

Série 1




Five-line musical staff for Series 1.

Série 2



Five-line musical staff for Series 2.



Numbered lines for Series 2.

1^{er} degré - 2016B

À l'examen, on donnera les deux dictées rythmiques et les deux dictées mélodiques

♩ = 60

Dictée rythmique (1) : donner 3 pulsations avant de jouer



Dictée rythmique (2) : donner 4 pulsations avant de jouer



Dictée mélodique (1)



Dictée mélodique (2)

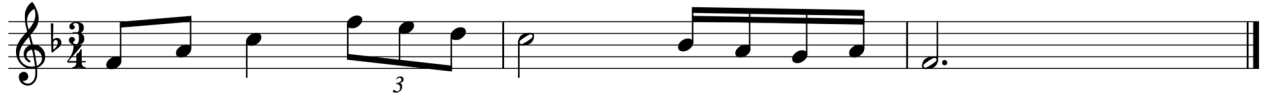


3e degré - 2016

À l'examen, on donnera les deux dictées rythmiques, la dictée mélodique et les accords

$\text{♩} = 60$

Dictée rythmique (1) : donner 3 pulsations avant de jouer



Dictée rythmique (2) : donner 4 pulsations avant de jouer



Dictée mélodique



Dictée harmonique : chaque série de 2 accords est jouée 2 fois



4e degré 2016B


À l'examen, on donnera les deux dictées rythmiques, la dictée mélodique et les 3 séries d'accords.

♩ = 60

Dictée rythmique (1) : donner 3 pulsations avant de jouer




Dictée rythmique (2) : donner 4 pulsations avant de jouer



♩ = 40

Dictée mélodique



Dictée harmonique : chaque série de 3 accords est jouée 3 fois




5e degré - 2016B

À l'examen, on donnera les deux dictées rythmiques, la dictée mélodique et les 3 séries d'accords.

Dictée rythmique (1) : donner 3 pulsations avant de jouer

♩ = 60



Dictée rythmique (2) : donner 2 pulsations avant de jouer

♩ = 40



Dictée mélodique

♩ = 60



Dictée harmonique : chaque série de 3 accords est jouée 3 fois



6e degré - 2016B

À l'examen, on donnera la dictée rythmique, la dictée mélodique et les 2 séries d'accords.

Dictée rythmique : donner 4 pulsations avant de jouer

♩ = 60



Dictée mélodique

♩ = 40



Dictée harmonique : chaque série de 4 accords est jouée 3 fois



7^e degré - 2016B

À l'examen, on donnera la dictée rythmique, la dictée mélodique et les 2 séries d'accords.

Dictée rythmique : donner 4 pulsations avant de jouer

♩ = 60



Dictée mélodique

♩ = 40



Dictée harmonique : chaque série de 4 accords est jouée 3 fois



8e degré - 2016B

À l'examen, on donnera la dictée rythmique, la dictée mélodique et les 2 séries d'accords.

Dictée rythmique : donner 2 pulsations avant de jouer

$\text{♩} = 40$



Dictée mélodique

$\text{♩} = 60$



Dictée harmonique : chaque série de 4 accords est jouée 3 fois



9e degré - 2016B

À l'examen, on donnera la dictée rythmique, la dictée mélodique et les 2 séries d'accords.

Dictée rythmique : donner 4 pulsations avant de jouer

♩ = 60



Dictée mélodique : donner 2 pulsations avant de jouer

♩ = 40



Dictée harmonique : chaque série de 5 accords est jouée 3 fois



10e degré - 2016B

À l'examen, on donnera les deux dictées mélodiques et les 2 séries d'accords.

Dictée mélodique (1)

♩ = 60



Dictée mélodique (2)

♩ = 40



Basse chiffrée : l'élève note uniquement la basse en clé de Fa et le chiffrage en dessous.
Chaque série est jouée 3 fois. On donne la tonalité et la note de départ à la basse.

Mi mineur
Départ : Mi 3^e espace

Do Majeur
Départ : Do 2^e espace



Onzième degré – 2016 / DictéeB

À l'examen, on donnera les deux dictées mélodiques et les deux séries d'accords.

Dictée mélodique (1) en Fa mineur $\text{♩} = 40$

Note de départ : Lab 2^e espace



Dictée mélodique (2) en Lab Majeur $\text{♩} = 60$



Note de départ : Mib 1^{ère} ligne



Basse chiffrée : l'élève note uniquement la basse en clef de Fa et indique le chiffrage en dessous.
Chaque série est jouée 4 fois. On donne la tonalité et la note de départ à la basse.

Do Majeur/ Départ : Do central

Do mineur/ Départ : Do central



1^{er} degré 2016A


À l'examen, on donnera les deux dictées rythmiques et les deux dictées mélodiques.

♩ = 60

Dictée rythmique 1 : donner 3 pulsations avant de jouer




Dictée rythmique (2) : donner 4 pulsations avant de jouer



Dictée mélodique (1)



Dictée mélodique (2)



2e degré 2016A

À l'examen, on donnera les deux dictées rythmiques et les deux dictées mélodiques.

♩ = 60

Dictée rythmique (1) : donner 4 pulsations avant de jouer



Dictée rythmique (2) : donner 2 pulsations avant de jouer



Dictée mélodique (1)



Dictée mélodique (2)




4e degré 2016A

À l'examen, on donnera les deux dictées rythmiques, la dictée mélodique et les 3 séries d'accords.

Dictée rythmique (1) : donner 2 pulsations avant de jouer

♩ = 40



Dictée rythmique (2) : donner 4 pulsations avant de jouer

♩ = 60



Dictée mélodique

♩ = 60



Dictée harmonique : chaque série de 3 accords est jouée 3 fois



5e degré 2016A

À l'examen, on donnera les deux dictées rythmiques, la dictée mélodique et les 3 séries d'accords.

Dictée rythmique (1) : donner 2 pulsations avant de jouer

♩ = 40



Dictée rythmique (2) : donner 4 pulsations avant de jouer

♩ = 60



Dictée mélodique

♩ = 60



Dictée harmonique : chaque série de 3 accords est jouée 3 fois



6e degré 2016A

À l'examen, on donnera la dictée rythmique, la dictée mélodique et les 2 séries d'accords.

Dictée rythmique : donner 2 pulsations avant de jouer

♩ = 40




Dictée mélodique

♩ = 60



Dictée harmonique : chaque série de 4 accords est jouée 3 fois



7e degré 2016A

À l'examen, on donnera la dictée rythmique, la dictée mélodique et les 2 séries d'accords.

Dictée rythmique : donner 2 pulsations avant de jouer

♩ = 40



Dictée mélodique

♩ = 60



Dictée harmonique : chaque série de 4 accords est jouée 3 fois



8e degré 2016A

À l'examen, on donnera la dictée rythmique, la dictée mélodique et les 2 séries d'accords.

Dictée rythmique : donner 2 pulsations avant de jouer

♩ = 40

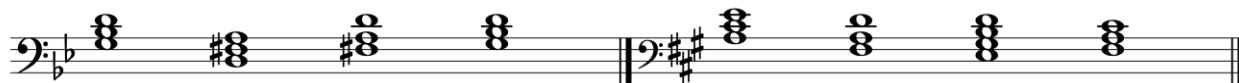


Dictée mélodique

♩ = 60



Dictée harmonique : chaque série de 4 accords est jouée 3 fois



9e degré 2016A

À l'examen, on donnera la dictée rythmique, la dictée mélodique et les 2 séries d'accords.

Dictée rythmique : donner 2 pulsations avant de jouer

♩ = 40



Dictée mélodique

♩ = 60



Dictée harmonique : chaque série de 5 accords est jouée 3 fois



10e degré 2016A

À l'examen, on donnera les deux dictées mélodiques et les 2 basses chiffrées.

Dictée mélodique (1)

♩ = 40



Dictée mélodique (2)

♩ = 60



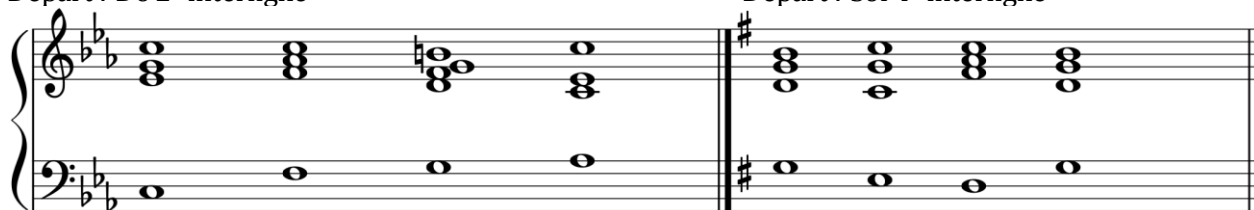
Basse chiffrée: l'élève note uniquement la basse en clé de Fa et le chiffrage en dessous.
Chaque série est jouée 3 fois. On donne la tonalité et la note de départ à la basse.

Do mineur

Départ : Do 2^e interligne

Sol Majeur

Départ : Sol 4^e interligne



11e degré 2016A

À l'examen, on donnera les deux dictées mélodiques et les 2 basses chiffrées.

Dictée mélodique (1)

♩ = 40




Dictée mélodique (2)

♩ = 60



Basse chiffrée : l'élève note uniquement la basse en clé de Fa et le chiffrage en dessous.
Chaque série est jouée 4 fois. On donne la tonalité et la note de départ à la basse.

Do majeur
Départ : Do central



Ré mineur
Départ : Ré 3^e ligne



1^{er} degré 2017A

À l'examen, on donnera les deux dictées rythmiques et les deux dictées mélodiques.

♩ = 60

Dictée rythmique 1 : donner 3 pulsations avant de jouer



Dictée rythmique (2) : donner 4 pulsations avant de jouer



Dictée mélodique (1)



Dictée mélodique (2)



2^e degré 2017A

À l'examen, on donnera les deux dictées rythmiques et les deux dictées mélodiques.

♩ = 60

Dictée rythmique (1) : donner 2 pulsations avant de jouer




Dictée rythmique (2) : donner 3 pulsations avant de jouer



Dictée mélodique (1)



Dictée mélodique (2)



3^e degré 2017A

À l'examen, on donnera les deux dictées rythmiques, la dictée mélodique et les accords.

♩ = 60

Dictée rythmique (1) : donner 3 pulsations avant de jouer



Dictée rythmique (2) : donner 4 pulsations avant de jouer



Dictée mélodique



Dictée harmonique : chaque série de 2 accords est jouée 3 fois. L'élève doit indiquer uniquement si l'accord est majeur ou mineur (M/m).



4^e degré 2017A

À l'examen, on donnera les deux dictées rythmiques, la dictée mélodique et les 3 séries d'accords.

Dictée rythmique (1) : donner 2 pulsations avant de jouer

♩ = 40



Dictée rythmique (2) : donner 4 pulsations avant de jouer

♩ = 60




Dictée mélodique

♩ = 60



Dictée harmonique : chaque série de 3 accords est jouée 3 fois. L'élève doit indiquer uniquement si l'accord est majeur ou mineur (M/m).



6^e degré 2017A

À l'examen, on donnera la dictée rythmique, la dictée mélodique et les 2 séries d'accords.

Dictée rythmique : donner 4 pulsations avant de jouer

♩ = 60



Dictée mélodique

♩ = 40



Dictée harmonique : chaque série de 4 accords est jouée 3 fois. L'élève doit indiquer uniquement si l'accord est un accord majeur, mineur ou une septième de dominante (M/m/V7).



7^e degré 2017A

À l'examen, on donnera la dictée rythmique, la dictée mélodique et les 2 séries d'accords.

Dictée rythmique : donner 4 pulsations avant de jouer

♩ = 60



Dictée mélodique

♩ = 40



Dictée harmonique : chaque série de 4 accords est jouée 3 fois. L'élève doit indiquer uniquement si l'accord est un accord majeur, mineur, en position fondamentale ou renversée, ou une septième de dominante (M/m/M6/m6/V7).



8^e degré 2017A

À l'examen, on donnera la dictée rythmique, la dictée mélodique et les 2 séries d'accords.

Dictée rythmique : donner 4 pulsations avant de jouer

♩ = 60



Dictée mélodique

♩ = 40



Dictée harmonique : chaque série de 4 accords est jouée 3 fois. L'élève doit indiquer uniquement si l'accord est un accord majeur, mineur, en position fondamentale ou renversée, ou une septième de dominante (M/m/M6/m6/V7).



9^e degré 2017A

À l'examen, on donnera la dictée rythmique, la dictée mélodique et les 2 séries d'accords.

Dictée rythmique : donner 3 pulsations avant de jouer

♩ = 60



Dictée mélodique

♩ = 40



Dictée harmonique : chaque série de 5 accords est jouée 3 fois. L'élève doit indiquer uniquement si l'accord est un accord majeur, mineur, en position fondamentale ou renversée, ou une septième de dominante (M/m/M6/m6/M^{6/4}/m^{6/4}, V7).



10^e degré 2017A

À l'examen, on donnera les deux dictées mélodiques et les 2 séries d'accords.

Dictée mélodique (1)

♩ = 40



Dictée mélodique (2)


♩ = 60



Basse chiffrée : l'élève note uniquement la basse en clé de Fa et le chiffrage en dessous.
Chaque série est jouée 3 fois. On donne la tonalité et la note de départ à la basse.


Ré majeur

Départ : Ré 3^e ligne



Ré mineur

Départ : Ré 3^e ligne



11^e degré 2017A

À l'examen, on donnera les deux dictées mélodiques et les 2 séries d'accords.

Dictée mélodique (1)

♩ = 40



Dictée mélodique (2)


♩ = 60



Basse chiffrée : l'élève note uniquement la basse en clé de Fa et le chiffrage en dessous.
Chaque série est jouée 4 fois. On donne la tonalité et la note de départ à la basse.


Ré mineur

Départ : Ré 2^e interligne supplémentaire



Ré majeur

Départ : Ré 3^e ligne



1^{er} degré - 2017B

À l'examen, on donnera les deux dictées rythmiques et les deux dictées mélodiques

♩ = 60

Dictée rythmique (1) : donner 3 pulsations avant de jouer



Dictée rythmique (2) : donner 4 pulsations avant de jouer



Dictée mélodique (1)



Dictée mélodique (2)



2e degré - 2017B

À l'examen, on donnera les deux dictées rythmiques et les deux dictées mélodiques

♩ = 60

Dictée rythmique (1) : donner 4 pulsations avant de jouer



Dictée rythmique (2) : donner 3 pulsations avant de jouer



Dictée mélodique (1)



Dictée mélodique (2)




3e degré - 2017B

À l'examen, on donnera les deux dictées rythmiques, la dictée mélodique et les accords

♩ = 60

Dictée rythmique (1) : donner 2 pulsations avant de jouer




Dictée rythmique (2) : donner 4 pulsations avant de jouer



Dictée mélodique



Dictée harmonique : chaque série de 2 accords est jouée 3 fois. L'élève doit indiquer uniquement si l'accord est majeur ou mineur (M/m).



4e degré 2017B

À l'examen, on donnera les deux dictées rythmiques, la dictée mélodique et les 3 séries d'accords.

♩ = 60

Dictée rythmique (1) : donner 4 pulsations avant de jouer



Dictée rythmique (2) : donner 4 pulsations avant de jouer



Dictée mélodique



Dictée harmonique : chaque série de 3 accords est jouée 3 fois. L'élève doit indiquer uniquement si l'accord est majeur ou mineur (M/m).




5e degré - 2017B

À l'examen, on donnera les deux dictées rythmiques, la dictée mélodique et les 3 séries d'accords.

Dictée rythmique (1) : donner 4 pulsations avant de jouer

♩ = 60



Dictée rythmique (2) : donner 3 pulsations avant de jouer

♩ = 60

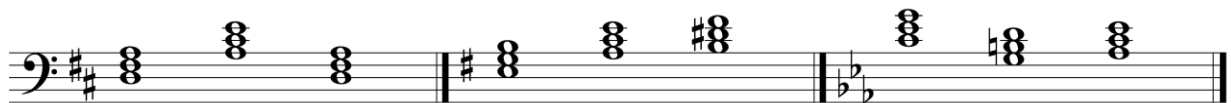


Dictée mélodique

♩ = 40



Dictée harmonique : chaque série de 3 accords est jouée 3 fois. L'élève doit indiquer uniquement si l'accord est majeur ou mineur (M/m).



6e degré - 2017B

À l'examen, on donnera la dictée rythmique, la dictée mélodique et les 2 séries d'accords.

Dictée rythmique : donner 3 pulsations avant de jouer

♩ = 60



Dictée mélodique

♩ = 40



Dictée harmonique : chaque série de 4 accords est jouée 3 fois. L'élève doit indiquer uniquement si l'accord est un accord majeur, mineur ou une septième de dominante (M/m/V7).



7e degré - 2017B

À l'examen, on donnera la dictée rythmique, la dictée mélodique et les 2 séries d'accords.

Dictée rythmique : donner 2 pulsations avant de jouer

♩ = 40



Dictée mélodique

♩ = 60



Dictée harmonique : chaque série de 4 accords est jouée 3 fois. L'élève doit indiquer uniquement si l'accord est un accord majeur, mineur, en position fondamentale ou renversée, ou une septième de dominante (M/m/M6/m6/V7).



8e degré - 2017B

À l'examen, on donnera la dictée rythmique, la dictée mélodique et les 2 séries d'accords.

Dictée rythmique : donner 2 pulsations avant de jouer

. = 40




Dictée mélodique

♩ = 60



Dictée harmonique : chaque série de 4 accords est jouée 3 fois. L'élève doit indiquer uniquement si l'accord est un accord majeur, mineur, en position fondamentale ou renversée, ou une septième de dominante (M/m/M6/m6/V7).



9e degré - 2017B

À l'examen, on donnera la dictée rythmique, la dictée mélodique et les 2 séries d'accords.

Dictée rythmique : donner 4 pulsations avant de jouer

♩ = 60



Dictée mélodique : donner 2 pulsations avant de jouer

♩ = 60



Dictée harmonique : chaque série de 5 accords est jouée 3 fois. L'élève doit indiquer uniquement si l'accord est un accord majeur, mineur, en position fondamentale ou renversée, ou une septième de dominante (M/m/M6/m6/M^{6/4}/m^{6/4}, V7).



10e degré - 2017B

À l'examen, on donnera les deux dictées mélodiques et les 2 séries d'accords.

Dictée mélodique (1)

♩ = 60



Dictée mélodique (2)


♩ = 40



Basse chiffrée : l'élève note uniquement la basse en clé de Fa et le chiffrage en dessous.
Chaque série est jouée 3 fois. On donne la tonalité et la note de départ à la basse.

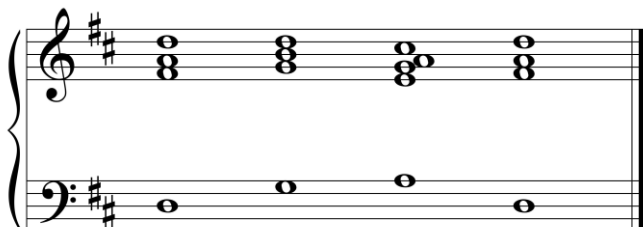
Si mineur

Départ : 1^{er} espace supplémentaire



Ré majeur

Départ : Ré 3^e ligne



1^{er} degré 2018A

À l'examen, on donnera les deux dictées rythmiques et les deux dictées mélodiques.

♩ = 60

Dictées rythmiques :

Dictée rythmique 1 : donner 4 pulsations avant de jouer



Dictée rythmique (2) : donner 3 pulsations avant de jouer



Dictées mélodiques : donner la tonalité, la note de départ, le chiffrage et une mesure de pulsations.

Dictée mélodique (1)



Dictée mélodique (2)



2e degré 2018A

À l'examen, on donnera les deux dictées rythmiques et les deux dictées mélodiques.

♩ = 60

Dictée rythmique (1) : donner 4 pulsations avant de jouer



Dictée rythmique (2) : donner 2 pulsations avant de jouer



Dictées mélodiques : donner la tonalité, la note de départ, le chiffrage et une mesure de pulsations.

Dictée mélodique (1)



Dictée mélodique (2)



3e degré 2018A

À l'examen, on donnera les deux dictées rythmiques, la dictée mélodique et les accords.

$\text{♩} = 60$

Dictée rythmique (1) : donner 4 pulsations avant de jouer




Dictée rythmique (2) : donner 2 pulsations avant de jouer



Dictée mélodique : donner la tonalité, la note de départ, le chiffre et une mesure de pulsations.



Dictée harmonique : chaque série de 2 accords est jouée 2 fois. L'élève identifie la nature des accords entendus (M, m).



M m M m m M m M

4e degré 2018A

À l'examen, on donnera les deux dictées rythmiques, la dictée mélodique et les 3 séries d'accords.

Dictée rythmique (1) : donner 2 pulsations avant de jouer

♩ = 40



Dictée rythmique (2) : donner 4 pulsations avant de jouer

♩ = 60

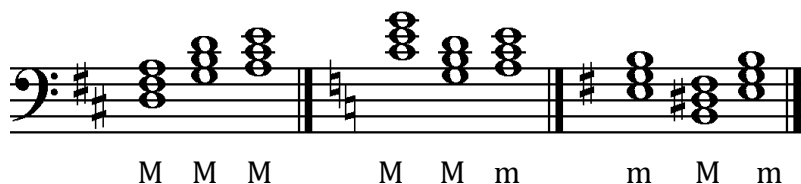


Dictée mélodique : donner la tonalité, la note de départ, le chiffrage et une mesure de pulsations.

♩ = 60



Dictées harmoniques : chaque série de 3 accords est jouée 3 fois. L'élève identifie la nature des accords entendus (M, m).



5e degré 2018A

À l'examen, on donnera les deux dictées rythmiques, la dictée mélodique et les 3 séries d'accords.

Dictée rythmique (1) : donner 2 pulsations avant de jouer

♩ = 60



Dictée rythmique (2) : donner 3 pulsations avant de jouer

♩ = 60




Dictée mélodique : Donner la tonalité, la note de départ, le chiffrage et une mesure de pulsations.

♩ = 40



Dictées harmoniques : chaque série de 4 accords est jouée 3 fois. L'élève identifie la nature des accords entendus (M, m, V⁷).



6e degré 2018A

À l'examen, on donnera la dictée rythmique, la dictée mélodique et les 2 séries d'accords.

Dictée rythmique : donner 4 pulsations avant de jouer

♩ = 40



Dictée mélodique : Donner la tonalité, la note de départ, le chiffrage et une mesure de pulsations.

♩ = 60



Dictée harmonique : chaque série de 4 accords est jouée 3 fois. Dictées harmoniques : chaque série de 4 accords est jouée 3 fois. L'élève identifie la nature des accords entendus (M, m, V⁷).



M M V⁷ M M M V⁷ vi

7e degré 2018A

À l'examen, on donnera la dictée rythmique, la dictée mélodique et les 2 séries d'accords.

Dictée rythmique : donner 4 pulsations avant de jouer

♩ = 40



Dictée mélodique : La tonalité, la note de départ, le chiffrage et une mesure de pulsations seront données avant de commencer.

♩ = 60



Dictées harmoniques : chaque série de 4 accords est jouée 3 fois. L'élève identifie la nature des accords entendus (M, M⁶, m, m⁶, V⁷).

8va -----1

m m M m⁶ M M⁶ V⁷ m

8e degré 2018A

À l'examen, on donnera la dictée rythmique, la dictée mélodique et les 2 séries d'accords.

Dictées : La tonalité, la note de départ, le chiffrage et une mesure de pulsations seront données avant de commencer.

Dictée rythmique : donner 2 pulsations avant de jouer

♩ = 40




Dictée mélodique

♩ = 60



Dictées harmoniques : chaque série de 4 accords est jouée 3 fois. L'élève identifie la nature des accords entendus (M, M⁶, m, m⁶, V⁷),



9e degré 2018A

À l'examen, on donnera la dictée rythmique, la dictée mélodique et les 2 séries d'accords.

Dictées : La tonalité, la note de départ et une mesure de pulsations seront données avant de commencer.

Dictée rythmique : donner 3 pulsations avant de jouer.

♩ = 60



Dictée mélodique

♩ = 40



Dictées harmoniques : chaque série de 5 accords est jouée 3 fois. L'élève identifie la nature des accords entendus (M, M⁶, M⁶₄, m, m⁶, m⁶₄, V⁷).

8va -----1

m
m
m⁶₄
V⁷
m
M
M⁶
M⁶₄
M
M⁶

10e degré 2018A

À l'examen, on donnera les deux dictées mélodiques et les 2 séries d'accords.

Dictées : La tonalité, la note de départ et une mesure de pulsations seront données avant de commencer.

Dictée mélodique (1)

♩ = 40



Dictée mélodique (2)


♩ = 60



Basses chiffrées : l'élève note uniquement la basse en clé de Fa et le chiffrage en dessous. Chaque série est jouée 3 fois. On donne la tonalité et la note de départ à la basse.

Do majeur


Départ : Do 1^{re} ligne supplémentaire



I vi IV I

Do mineur

Départ : Do 2^e espace



i iv⁶ V i

11e degré 2018A

À l'examen, on donnera les deux dictées mélodiques et les 2 séries d'accords.
La tonalité, la note de départ et une mesure de pulsations seront données avant de commencer.

Dictée mélodique (1)

♩ = 40



Dictée mélodique (2)


♩ = 60



Basse chiffrée : l'élève note uniquement la basse en clé de Fa et le chiffrage en dessous.
Chaque série est jouée 4 fois. On donne la tonalité et la note de départ à la basse.

Ré majeur


Départ : Ré 2^e interligne supplémentaire



I vi ii6 V⁶₄ V7 I
(ou I⁶₄)

Do mineur

Départ : Do 1^{er} ligne supplémentaire



i iv vi iv6 V7 i

1^{er} degré 2018B

À l'examen, on donnera les deux dictées rythmiques et les deux dictées mélodiques.

♩ = 60

Dictée rythmique 1 : donner 3 pulsations avant de jouer



Dictée rythmique (2) : donner 4 pulsations avant de jouer



Dictées mélodiques : donner la tonalité, la note de départ, le chiffrage et une mesure de pulsations.

Dictée mélodique (1)



Dictée mélodique (2)



2e degré 2018B

À l'examen, on donnera les deux dictées rythmiques et les deux dictées mélodiques.

♩ = 60

Dictée rythmique (1) : donner 2 pulsations avant de jouer



Dictée rythmique (2) : donner 3 pulsations avant de jouer



Dictées mélodiques : donner la tonalité, la note de départ, le chiffrage et une mesure de pulsations.

Dictée mélodique (1)



Dictée mélodique (2)



3e degré 2018B

À l'examen, on donnera les deux dictées rythmiques, la dictée mélodique et les accords.

♩ = 60

Dictée rythmique (1) : donner 3 pulsations avant de jouer



Dictée rythmique (2) : donner 4 pulsations avant de jouer



Dictée mélodique : donner la tonalité, la note de départ, le chiffreage et une mesure de pulsations.



Dictée harmonique : chaque série de 2 accords est jouée 2 fois



M m m M M m m M m M

4e degré 2018B

À l'examen, on donnera les deux dictées rythmiques, la dictée mélodique et les 3 séries d'accords.

Dictée rythmique (1) : donner 2 pulsations avant de jouer

♩ = 40



Dictée rythmique (2) : donner 4 pulsations avant de jouer

♩ = 60




Dictées mélodiques : donner la tonalité, la note de départ, le chiffreage et une mesure de pulsations.

♩ = 60



Dictées harmoniques : chaque série de 3 accords est jouée 3 fois. L'élève identifie la nature des accords entendus (M, m).



m m m m m M m m M

5e degré 2018B

À l'examen, on donnera les deux dictées rythmiques, la dictée mélodique et les 3 séries d'accords.

Dictée rythmique (1) : donner 1 mesure de pulsations avant de jouer.

♩ = 40



Dictée rythmique (2) : donner 1 mesure de pulsations avant de jouer.

♩ = 60



Dictée mélodique : donner la tonalité, la note de départ, le chiffrage et une mesure de pulsations.

♩ = 60



Dictées harmoniques : chaque série de 3 accords est jouée 3 fois. L'élève identifie la nature des accords entendus (M, m).



m m m m M M m m M

6e degré 2018B

À l'examen, on donnera la dictée rythmique, la dictée mélodique et les 2 séries d'accords.

Dictée rythmique : donner 1 mesure de pulsations avant de jouer.

♩ = 60




Dictée mélodique : Donner la tonalité, la note de départ, le chiffrage et une mesure de pulsations.

♩ = 60



Dictées harmoniques : chaque série de 4 accords est jouée 3 fois. L'élève identifie la nature des accords entendus (M, m, V⁷).



M M V⁷ M m M m M

7e degré 2018B

À l'examen, on donnera la dictée rythmique, la dictée mélodique et les 2 séries d'accords.

Dictée rythmique : donner 1 mesure de pulsations avant de jouer.

♩ = 60




Dictée mélodique : donner la tonalité, la note de départ, le chiffrage et une mesure de pulsations.

♩ = 60



Dictées harmoniques : chaque série de 4 accords est jouée 3 fois. L'élève identifie la nature des accords entendus (M, M⁶, m, m⁶, V⁷).

8va -----|



8e degré 2018B

À l'examen, on donnera la dictée rythmique, la dictée mélodique et les 2 séries d'accords.

Dictée rythmique : donner 1 mesure de pulsations avant de jouer.

♩ = 40




Dictée mélodique : donner la tonalité, la note de départ, le chiffreage et une mesure de pulsations.

♩ = 60



Dictées harmoniques : chaque série de 4 accords est jouée 3 fois. L'élève identifie la nature des accords entendus (M, M⁶, m, m⁶, V⁷),



m
m⁶
M⁶
m
M
M⁶
V⁷
m

9e degré 2018B

À l'examen, on donnera la dictée rythmique, la dictée mélodique et les 2 séries d'accords.

Dictée rythmique : donner 1 mesure de pulsations avant de jouer.

♩ = 60



Dictée mélodique : donner la tonalité, la note de départ, le chiffrage et une mesure de pulsations.

♩ = 40



Dictées harmoniques : chaque série de 5 accords est jouée 3 fois. L'élève identifie la nature des accords entendus (M, M⁶, M⁶₄, m, m⁶, m⁶₄, V⁷)



M M⁶ M⁶₄ V⁷ M m m m⁶₄ M m⁶

10e degré 2018B

À l'examen, on donnera les deux dictées mélodiques et les 2 séries d'accords.

Dictées mélodiques : donner la tonalité, la note de départ, le chiffre et une mesure de pulsations.

Dictée mélodique (1)

♩ = 60



Dictée mélodique (2)


♩ = 40



Basses chiffrées : l'élève note uniquement la basse en clé de Fa et le chiffre en dessous. Chaque série est jouée 3 fois. On donne la tonalité et la note de départ à la basse.


Do mineur

Départ : Do 2^e espace



Do majeur

Départ : do central.



11e degré 2018B

À l'examen, on donnera les deux dictées mélodiques et les 2 séries d'accords.

Dictées mélodiques : donner la tonalité, la note de départ, le chiffrage et une mesure de pulsations.

Dictée mélodique (1)

♩ = 60



Dictée mélodique (2)


♩ = 40



Basse chiffrée : l'élève note uniquement la basse en clé de Fa et le chiffrage en dessous. Chaque série est jouée 4 fois. On donne la tonalité et la note de départ à la basse.

Do mineur


Départ : Do central



i iv⁶ iv V i⁶ i

Ré majeur

Départ : Ré 2^e interligne supplémentaire



I vi ii⁶ I⁶₄ V⁷ I
(ou V⁶₄)